



الكتيب المساند في مادة الدراسات الاجتماعية للصف السادس

الفصل الدراسي الأول

إعداد وتصميم المعلمة/
خيرية بنت صالح العبرية

اسم الطالب /ة : الصف : ٦/.....

<https://www.omaneducportal.com/>

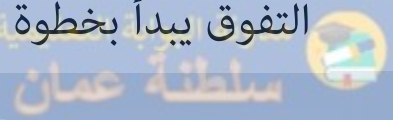
يسرنا أن نقدم لكم هذا الكتيب الشامل الذي يحتوي على ملخصات دروس مادة الدراسات الاجتماعية للصف السادس للفصل الدراسي الأول، بالإضافة إلى مجموعة من الأنشطة المتنوعة ونماذج من أسئلة الاختبارات. يهدف هذا الكتيب إلى أن يكون معيناً للطلبة في المذاكرة والتحضير للاختبارات، كما يساعدهم على فهم الدروس بطريقة أعمق وأكثر تفاعلاً. نأمل أن يكون هذا الكتيب أداة مفيدة لتحقيق التفوق والنجاح.

مع أطيب التمنيات بالتوفيق،

خيرية العبرية

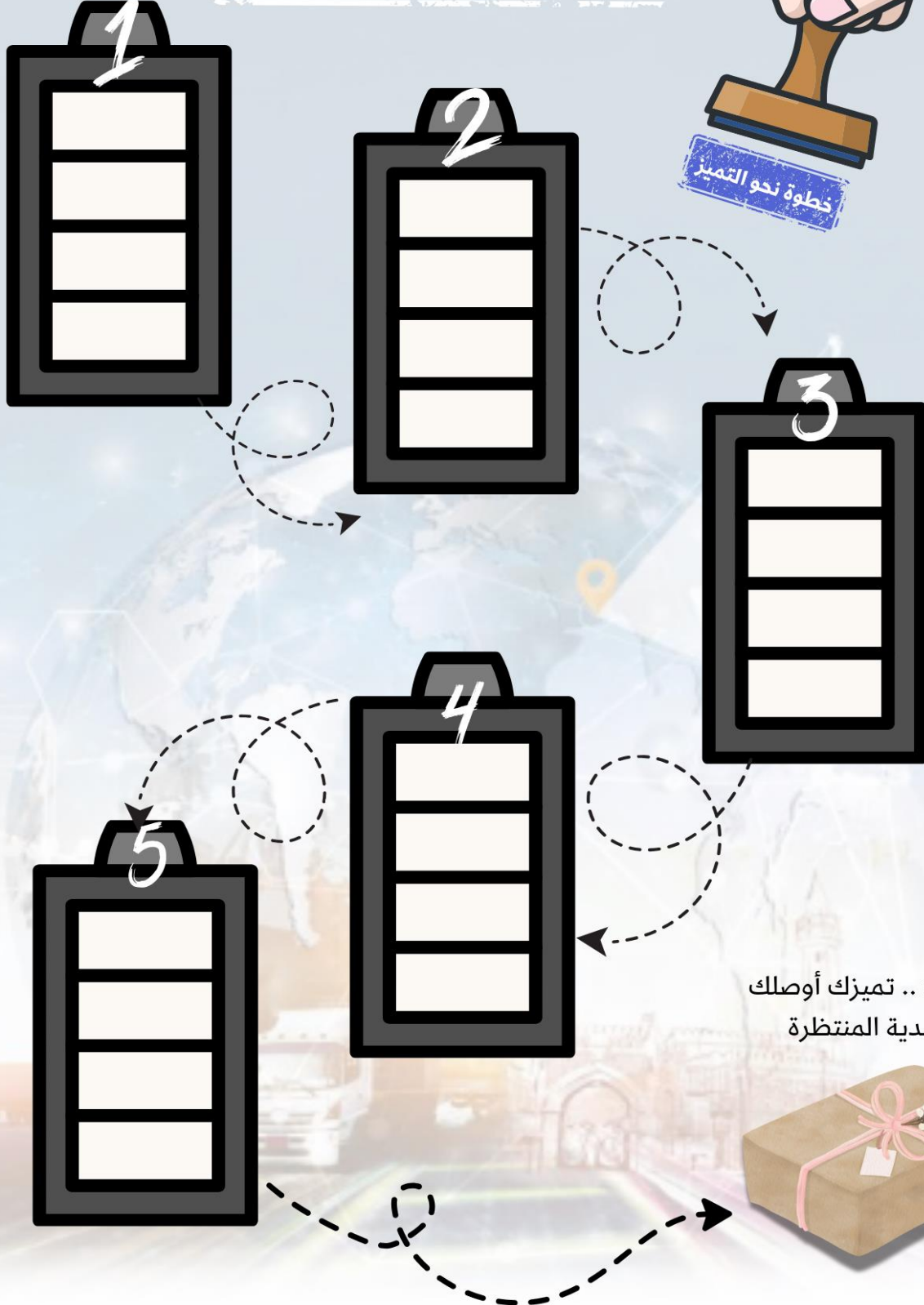


التفوق يبدأ بخطوة استمر حتى تصل إلى هدفك ...



<https://www.omaneducportal.com/>

اجمع الأختام وتميز
بخطواتك نحو القمة



عنوان الدرس /

سلطنة عمان


<https://www.omaneducportal.com/>

اليوم / التاريخ

عناصر الدرس /عناصر الدرس /

اليوم / التاريخ

عناصر الدرس /

اليوم / التاريخ

عناصر الدرس /

اليوم / التاريخ

عناصر الدرس /







اليوم / التاريخ

عناصر الدرس /

الدرس الأول / رموز الخريطة

مجموعة من الأشكال والألوان ترسم على الخريطة لتبين الطواهر الجغرافيه الموجوده على سطح الأرض.

٢- أنواع الرموز المستخدمة في الخريطة من حيث الشكل:

النوع	الرموز النقطية	الرموز الخطية	الرموز المساحية
الاستخدام	تستخدم لتمثيل الظواهر الجغرافية التي تدل على معالم وأماكن محددة	تستخدم لتمثيل الظواهر الجغرافية التي تتميز بخاصية الحركة والاستمرار.	تستخدم لتمثيل الظواهر الجغرافية التي تشغل مساحة واسعة
أمثلة عليها	 مطار  ميناء	 واد  الحدود الإدارية	 بحار ومحيطات  كثبان رملية
أمثلة أخرى	المدن والقرى والمناجم	المجري المائية	غطاء نباتي ومسطحات مائية

٣- علل: اختلاف بعض أشكال الرموز المستخدمة.

بسبب اختلاف المواصفات المتبعة لدى الجهة المسؤولة عن رسم الخرائط .

٤- أنواع الرموز المستخدمة في الخريطة من حيث الدلالة؟

المفهوم	الرموز النوعية	الرموز الكمية
النوع مثال لاستخداماتها	نقطي نوعي تمثيل العواصم والمدن	نقطي كمي توزيع عدد المدارس سكان المدن
	خطي نوعي تمثيل الحدود السياسية والأنهار	خطي كمي المجري المائية
	مساحي نوعي تمثيل المناطق الرملية والمسطحات المائية	مساحي كمي الكثافة السكانية

٥- ما أهمية رموز الخريطة ؟

- تقلل من التفاصيل في الخريطة .
- تسهل تمثيل الظواهر الجغرافية في الخرائط.
- تساعد في قراءة الخريطة وفهمها.

٦- علل : تعد رموز الخريطة لغة عالمية .

لفهم دلالات الظواهر الجغرافية الموجودة في الخرائط.

السؤال الأول: ضع دائرة حول الرمز الدال على الإجابة الصحيحة من بين البدائل المعطاة:

١- المصطلح الذي يقصد به مجموعة من الأشكال والخطوط والألوان ترسم على الخرائط لتمثيل الظواهر الجغرافية :
<https://www.omaneducportal.com/>

- أ- إطار الخريطة ب- رموز الخريطة ج- الأسماء الجغرافية د- مقياس الرسم
- ٢- الرموز التي تستخدم في تمثيل الظواهر الجغرافية التي تتميز بخاصية الحركة والاستمرار:
- أ- النقطية ب- المساحية ج- الخطية د- الرسوم
- ٣- الرمز الذي يستخدم في تمثيل الظاهرة الجغرافية الواضحة في الصورة المقابلة:

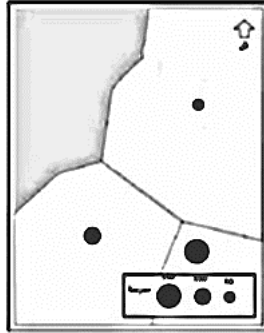


- أ- النقطي ب- المساحي
- ج- الخطي د- الكمي

٤- الرموز التي تستخدم لتمثيل الظواهر الجغرافية التي تدل على معالم وأماكن محددة:

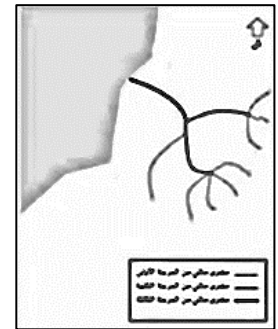
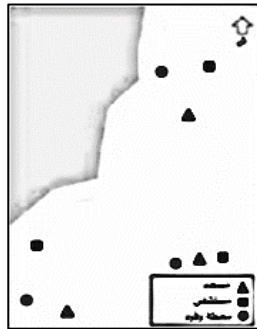
- أ- النقطية ب- المساحية ج- الخطية د- الحركية
- ٥- الرموز التي تستخدم لتمثيل الظواهر الجغرافية التي تشغل مساحة واسعة :
- أ- النقطية ب- المساحية ج- الخطية د- الرسوم

٦- نوع الرموز حسب ما توضحه الخريطة المقابلة :



- أ- نقطية نوعية
- ب- نقطية كمية
- ج- خطية نوعية
- د- خطية كمية

٧- الخريطة التي استخدم فيها الرموز الخطية الكمية :



د-

ج-

ب-

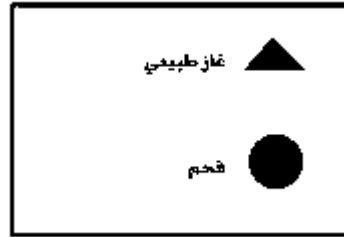
أ-



٨- نوع الرموز المستخدمة لتمثيل الكثافة السكانية على الخريطة :


أ- نقطية نوعية
ب- نقطية كمية
ج- مساحية نوعية
د- مساحية كمية

٩- نوع الرموز المستخدمة في مفتاح الخريطة في الشكل المقابل:



- أ- نقطية نوعية
ب- نقطية كمية
ج- خطية نوعية
د- خطية كمية

١٠- الظاهرة الجغرافية التي يدل عليها الرمز في خريطة سلطنة عمان والواضحة في الشكل المقابل :



- أ- العاصمة
ب- الولاية
ج- الميناء
د- المطار

١١- نوع الرموز المناسبة لرسم خريطة توضح توزيع عدد المستشفيات في سلطنة عمان :

- أ- نقطية نوعية
ب- نقطية كمية
ج- خطية نوعية
د- خطية كمية

ثانيا : أجب عن الأسئلة الآتية:

١- صنف الرموز ما بين القوسين من خلال الجدول الآتي:

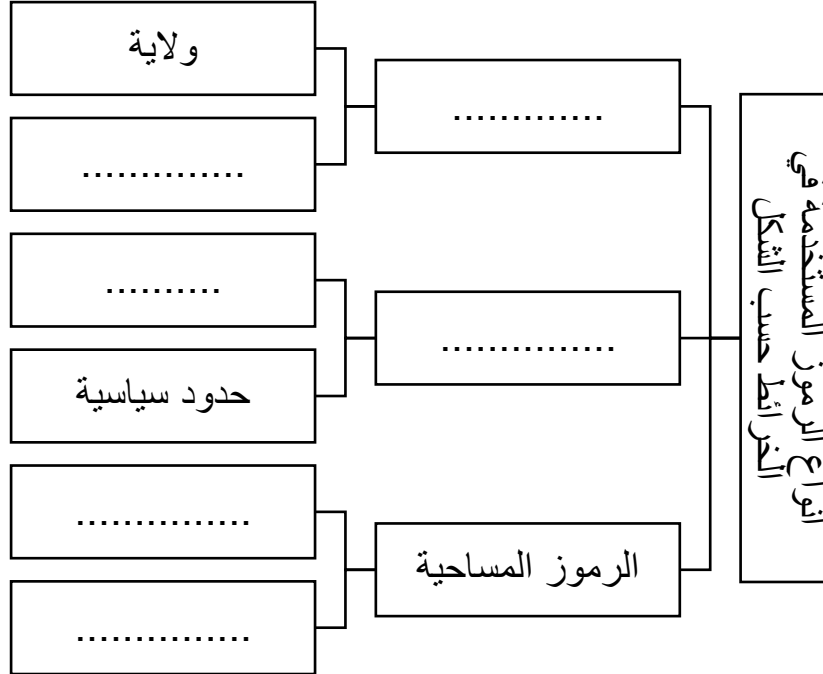
(مطار - حدود إدارية - نهر - ميناء - كثبان رملية - مسطحات مائية)

الرموز المساحية	الرموز الخطية	الرموز النقطية

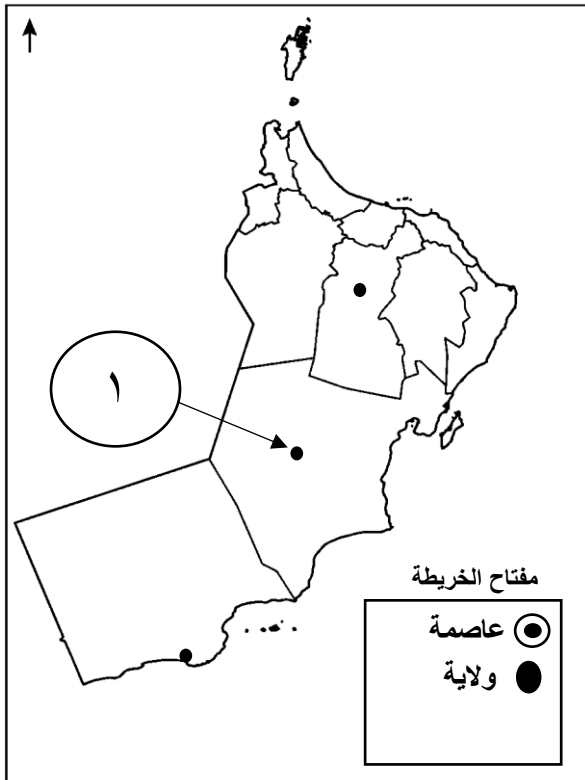
٢- تمثل البحار والمحيطات في بعض الخرائط بتدرجات لونية مختلفة، فسر ذلك.

<https://www.omaneducportal.com/>

٣- أكمل الفراغات في الخريطة المفاهيمية الآتية بما يناسبها:



٤- ادرس خريطة عمان ثم أجب عن الأسئلة التي تليها:



أ- وقع على الخريطة عاصمة سلطنة عمان باستخدام الرمز المناسب في مكانه الصحيح

ب- ما نوع الظاهرة الجغرافية المشار إليها بالخريطة بالرقم (١).

ج- ما نوع الرموز حسب الشكل الواردة في مفتاح الخريطة.

د- وضح أهمية وجود الرموز في الخريطة .

٥- اكتب المصطلح الدال على العبارات الآتية في الجدول التالي:

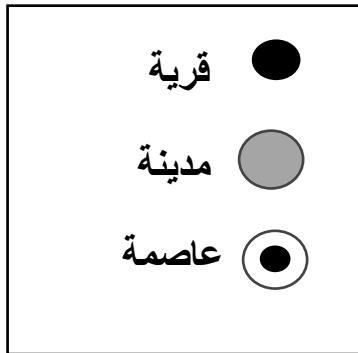
المصطلح	العبرة
الرموز التي توضح الاختلاف في نوع الظاهر الجغرافية
الرموز التي توضح كم ظاهرة معينة أو حجمها.

٦- علل ما يلي:

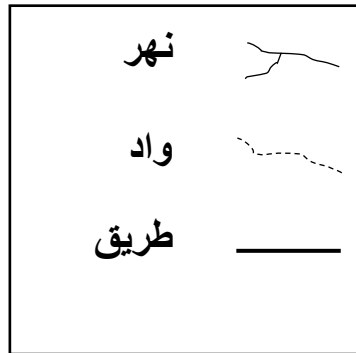
أ- تعد رموز الخريطة لغة عالمية.

ب- اختلاف بعض أشكال الرموز المستخدمة في رسم الخرائط.

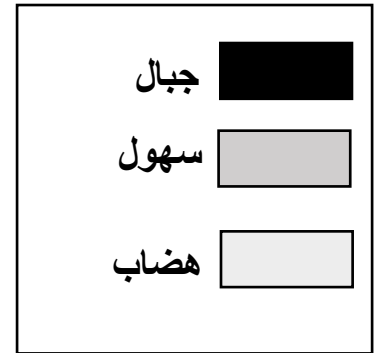
٧- أدرس الأشكال التي أمامك ثم أجب عن الأسئلة التي تليها:



(ج)



(ب)



(أ)

١- أكتب نوع الرموز من حيث الشكل مستعينا بالأشكال السابقة والرمز الدال عليها:

(أ)

(ب)

(ج)

٢- ما دلالة الرموز في الأشكال السابقة:

كمية ○ اختر الإجابة الصحيحة

نوعية ○

فسر ذلك.....

عنوان الدرس

سلطنة عمان


<https://www.omaneducportal.com/>

اليوم... التاريخ...

عناصر الدرس

اليوم... التاريخ...

عناصر الدرس

اليوم... التاريخ...

عناصر الدرس

اليوم... التاريخ...

عناصر الدرس

اليوم... التاريخ...

عناصر الدرس

اليوم... التاريخ...

عناصر الدرس

<https://www.omaneducportal.com/>


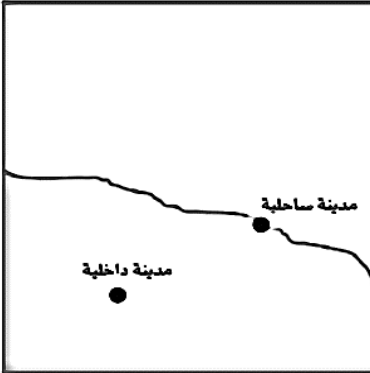

١- ما المقصود بالأسماء الجغرافية؟

مسميات الأماكن والظواهر الجغرافية (الطبيعية والبشرية) التي تتضمنها الخريطة.

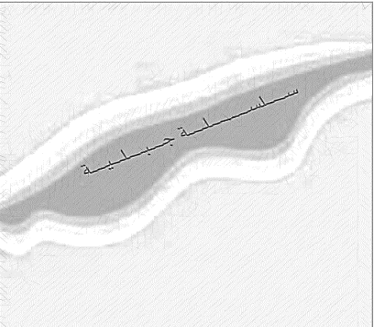
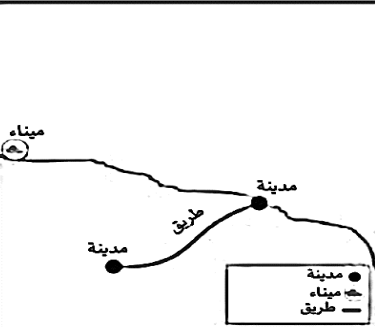
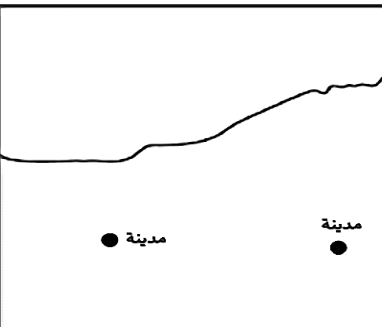
٢- ما الهيئة الحكومية المسؤولة عن توثيق الأسماء الجغرافية في خرائط سلطنة عمان؟

الهيئة الوطنية للمساحة والمعلومات الجيومكانية بوزارة الدفاع (قسم الأسماء الجغرافية).

٣- الأساسيات التي يجب مراعاتها عند كتابة الأسماء الجغرافية على الخرائط.

أساسيات كتابة الأسماء الجغرافية		
		
<p>تكتب الأسماء الجغرافية على الخرائط في موقع محدد ويشير إلى رمز واحد فقط.</p>	<ul style="list-style-type: none"> تكتب أسماء المدن الساحلية على المسطح المائي تكتب أسماء المدن الداخلية في موضع مناسب على اليابسة. 	<ul style="list-style-type: none"> كتابة الأسماء بحجم خط مناسب وضع أفقي قدر الإمكان يعتمد حجم الخط على أهمية الظاهرة الجغرافية مثال: المدن (خط صغير) المحافظات (خط أكبر)

٤- أساسيات كتابة الأسماء الجغرافية حسب نوع الرموز :

الرموز المساحية	الرموز الخطية	الرموز النقطية
		
<p>تكتب الأسماء على الظواهر التي لها امتداد مساحي في وضع يدل على اتجاه امتدادها.</p>	<p>تكتب الأسماء فوق الرمز مباشرة، وليس أسفله</p>	<p>تكتب الأسماء غالبا أعلى الرمز أو يمينه مباشرة</p>

٥- ما أهمية الأسماء الجغرافية؟

- وسيلة سهلة لقراءة وفهم الخرائط الطبيعية والبشرية
- توفير معلومات مهمة عن المواقع والظواهر الجغرافية
- تجعل الخريطة أداة مناسبة للتعرف إلى العالم بتفاصيله المختلفة.

٦- علل ما يلي:

- اختلاف حجم الخط في كتابة الظواهر الجغرافية.
نظرا لأهمية الظاهرة الجغرافية وحجمها. مثال (كتابة المحافظات بخط أكبر عن الولايات).
- كتابة الأسماء الجغرافية في موضع محدد يدل على رمز واحد فقط.
حتى لا تلتبس على قارئ الخريطة، فيظن أن الكلمة تشير إلى رمزين.

السؤال الأول: ضع دائرة حول الرمز الدال على الإجابة الصحيحة من بين البدائل المعطاة:

١- المصطلح الذي يقصد به مسميات الأماكن والظواهر الجغرافية التي تتضمنها الخريطة:

ب- إطار الخريطة ب- رموز الخريطة

ج- - مقياس الرسم د- الأسماء الجغرافية

٢- الهدف من استخدام حجم خط مختلف للأسماء الجغرافية:

أ) لجعل الخريطة أكثر جاذبية

ب) لتحديد أهمية الظاهرة الجغرافية

ج) لتسهيل القراءة

د) لا شيء مما ذكر

٣- مكان كتابة الأسماء الجغرافية في حالة الرموز النقطية:

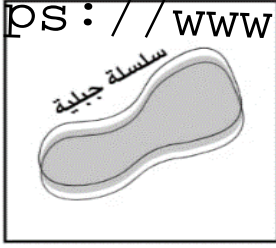
أ- أعلى الرمز أو يساره مباشرة.

ب- أعلى الرمز أو يمينه مباشرة.

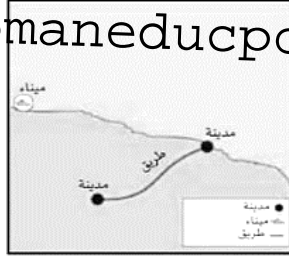
ج- أسفل الرمز أو يساره مباشرة.

د- أسفل الرمز أو يساره مباشرة.

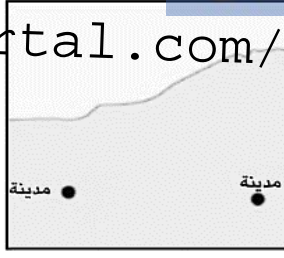
٤- الخريطة الصحيحة التي توضح كتابة الأسماء الجغرافية بالشكل الصحيح:



د-



ج-



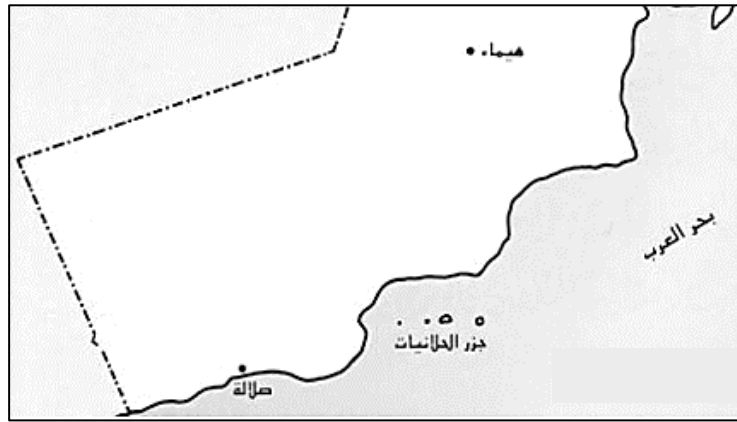
ب-



أ-

السؤال الثاني: أجب عن الأسئلة التالية:


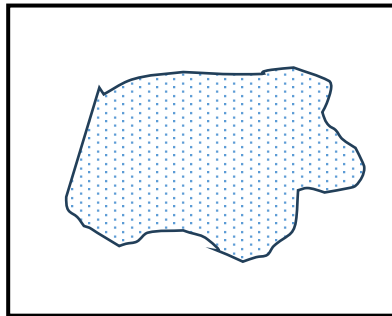
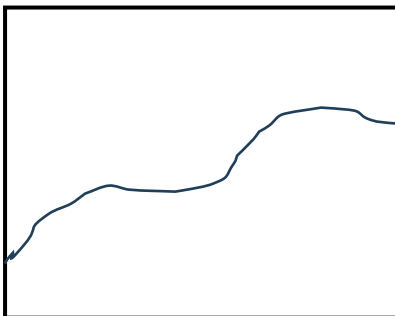
١- أدرس الخريطة الآتية ثم قارن بين ولايتي صلالة وهيماء من خلال الجدول الآتي:



صلالة	هيماء	
		موقع كتابة اسم الولاية (البحر/اليابسة)
		السبب من كتابتها

٢- اكتب الأسماء الجغرافية على الرموز الآتية بشكل صحيح.

(مدينة ، سبخة ، واد)



٣- علل ما يأتي:
أ- كتابة الأسماء الجغرافية في موضع محدد يدل على رمز واحد فقط.
<https://www.omaneducportal.com/>

ب- اختلاف حجم الخط في كتابة الظواهر الجغرافية.

٤- "تعد سلطنة عمان عضوا في الشعبة العربية لخبراء الأسماء الجغرافية" في ضوء ذلك وضح الدور الأساسي الذي تختص به هذه الشعبة.

٥- عدد اثنين من أهمية كتابة الأسماء الجغرافية على الخرائط.

٦- ادرس خريطة عمان التي أمامك ثم أجب عن الأسئلة التي تليها:



ت- اكتب على الخريطة مدينتي صحار ونزوى في الموقع المناسب بالطريقة الصحيحة لكتابة الأسماء الجغرافية.

ث- ما الخطأ الفني الذي وقع فيه رسام الخريطة عند كتابته اسم جبال ظفار.



<https://www.omaneduportal.com/>

اليوم / التاريخ

عناصر الدرسعناصر الدرس

اليوم / التاريخ

عناصر الدرس

اليوم / التاريخ

عناصر الدرس

اليوم / التاريخ

عناصر الدرس

اليوم / التاريخ

عناصر الدرس

عصر النبوة

الرسول محمد ﷺ

١١-١ هـ

١٠ سنوات

طريقة الاختيار

عصر الخلافة الراشدة

أبو بكر الصديق ﷺ

١٣-١١ هـ

٢ سنوات

انتخاب مباشر

عمر بن الخطاب ﷺ

٢٣-١٣ هـ

١٠ سنوات

التزكية

عثمان بن عفان ﷺ

٣٥-٢٣ هـ

١٢ سنوات

اختيار من بين عدد من المرشحين

علي بن أبي طالب كرم الله وجهه

٤٠-٣٥ هـ

٥ سنوات

بيعة عامة

٨- المناطق التي فُتحت في عهد عثمان بن عفان رضي الله عنه .

• أجزاء من (بلاد فارس)

• أجزاء من شمال أفريقيا : طرابلس (ليبيا) القيروان وسببلة (تونس)

٩- الخليفة الراشدي الذي وصلت الفتوحات الإسلامية ذروتها في عصره.

عمر بن الخطاب رضي الله عنه.

١٠- أبرز منجزات الخلفاء الراشدين:

المنجزات	المجال
القضاء على الردة	عسكري / ديني
جمع القرآن الكريم وكتابة المصاحف	ديني
إنشاء الدواوين	إداري
التوسع في الفتوحات الإسلامية	عسكري

١١- علل : اهتمام الخلفاء الراشدين بجمع القرآن الكريم وكتابته.
خوفاً من ضياعه.

١٢- ما النتائج المترتبة على الفتوحات الإسلامية في عصر الخلفاء الراشدين.

- توسع الدولة الإسلامية
- دخول شعوب أخرى إلى الإسلام مثل الفرس.
- فتح المدن الكبرى مثل دمشق والإسكندرية

١٣- عاصمة الدولة الإسلامية في عهد الخلفاء الراشدين .
المدينة المنورة

١٤- ما النتيجة المترتبة من إنشاء الدواوين .
تنظيم شؤون الدولة .

السؤال الأول: ضع دائرة حول الرمز الدال على الإجابة الصحيحة من بين البدائل المعطاة:

١- الخليفة الذي تولى الحكم بعد وفاة الرسول ﷺ :
<https://www.omaneducportal.com/>

أ- أبو بكر الصديق
 ب- عمر بن الخطاب

ج- عثمان بن عفان
 د- علي بن أبي طالب

٢- الجدول الصحيح الذي يوضح ترتيب حكم الخلفاء الراشدين:

١	أبو بكر الصديق
٢	عمر بن الخطاب
٣	عثمان بن عفان
٤	علي بن أبي طالب

ب-

١	أبو بكر الصديق
٢	عثمان بن عفان
٣	علي بن أبي طالب
٤	عمر بن الخطاب

أ-

١	علي بن أبي طالب
٢	عثمان بن عفان
٣	أبو بكر الصديق
٤	عمر بن الخطاب

د-

١	عمر بن الخطاب
٢	أبو بكر الصديق
٣	علي بن أبي طالب
٤	عثمان بن عفان

ج-

٣- الخليفة الذي حكم أطول فترة زمنية في عصر الخلافة الراشدة:

أ- أبو بكر الصديق
 ب- عمر بن الخطاب

ج- عثمان بن عفان
 د- علي بن أبي طالب

٤- عدد السنوات التي حكم فيها الخلفاء الراشدون:

أ- ٩

ب- ١٩

ج- ٢٩

د- ٣٩

٥- الطريقة التي اختير فيها الخليفة عمر بن الخطاب ﷺ :

أ- انتخاب مباشر ب- التزكية ج- اختيار من المرشحين د- بيعة عامة

٦- من المنجزات الإدارية للخلفاء الراشدين:

أ- القضاء على الردة

ب- التوسع في الفتوحات الإسلامية

ج- جمع القرآن الكريم

د- إنشاء الدواوين

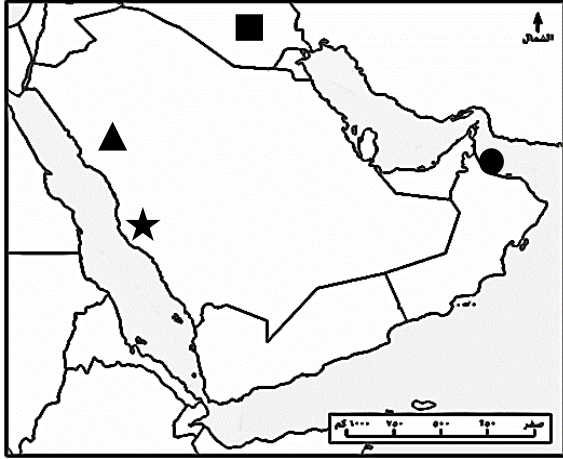
٧- الخليفة الذي قام بفتح المدن الكبرى مثل دمشق والإسكندرية:

أ- أبو بكر الصديق
 ب- عمر بن الخطاب

ج- عثمان بن عفان
 د- علي بن أبي طالب

٨- السنة الهجرية التي توفي فيها الرسول محمد ﷺ :
أ- ١١ ب- ١٢ ج- ١٣ د- ١٤
<https://www.omaneducportal.com/>

٩- الرمز الذي يشير في الخريطة إلى عاصمة الدولة الإسلامية في عهد الخلفاء الراشدين :



أ- ★

ب- ●

ج- ▲

د- ■

١٠- مسمى العصر الذي سبق عصر الخلافة الراشدة :
أ- الأموي ب- النبوة ج- العباسي د- الفاطمي

الأسئلة المقالية: أجب عن الأسئلة الآتية :

١- علل ما يلي:

أ- تسمية الخلفاء الراشدين بهذا الاسم.

ب- اهتمام الخلفاء الراشدين بجمع القرآن الكريم وكتابته.

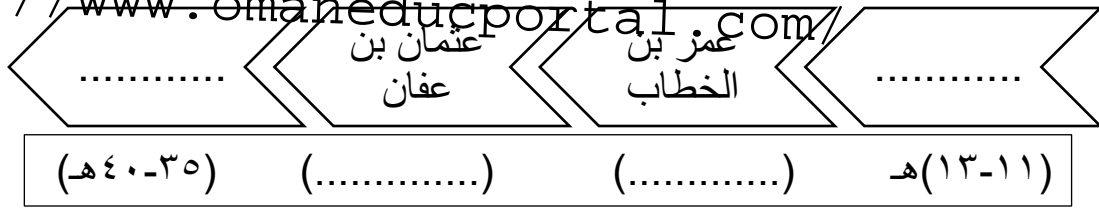
٢- صنف منجزات الخلفاء الراشدين التالية حسب الجدول الآتي :

(القضاء على الردة - انشاء الدواوين- التوسع في الفتوحات الإسلامية- جمع القرآن وكتابته)

عسكرية	إدارية	دينية

٣- أكمل المخطط الزمني الذي يوضح فترة حكم الخلفاء الراشدين:

<https://www.omaneducportal.com/>



٤- أقرأ النص الآتي ثم أجب عن الأسئلة التي تليها:

" بعد وفاة الرسول ﷺ سنة ١١ هـ اجتمع المهاجرون والأنصار، لاختيار من يخلفه في حكم الدولة فتم التشاور فيما بينهم واختاروا أبا بكر الصديق رضي الله عنه خليفة للمسلمين ، بعدها رشح أبا بكر عمر بن الخطاب رضي الله عنه أن يخلفه في حكم المسلمين وشاور الصحابة فوافقوا عليه.

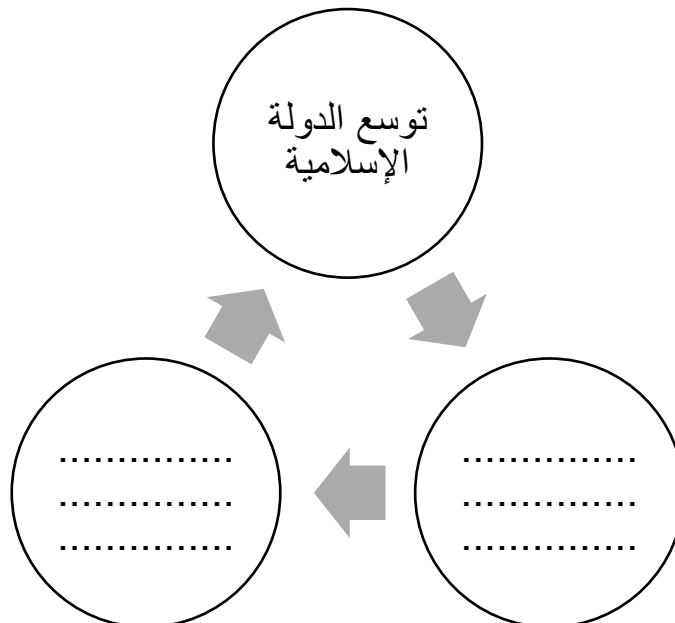
١- ما طرق اختيار الخلفاء الراشدين التي وردت في النص؟

٢- السنة الهجرية التي بدأ فيها حكم الخليفة أبو بكر الصديق.

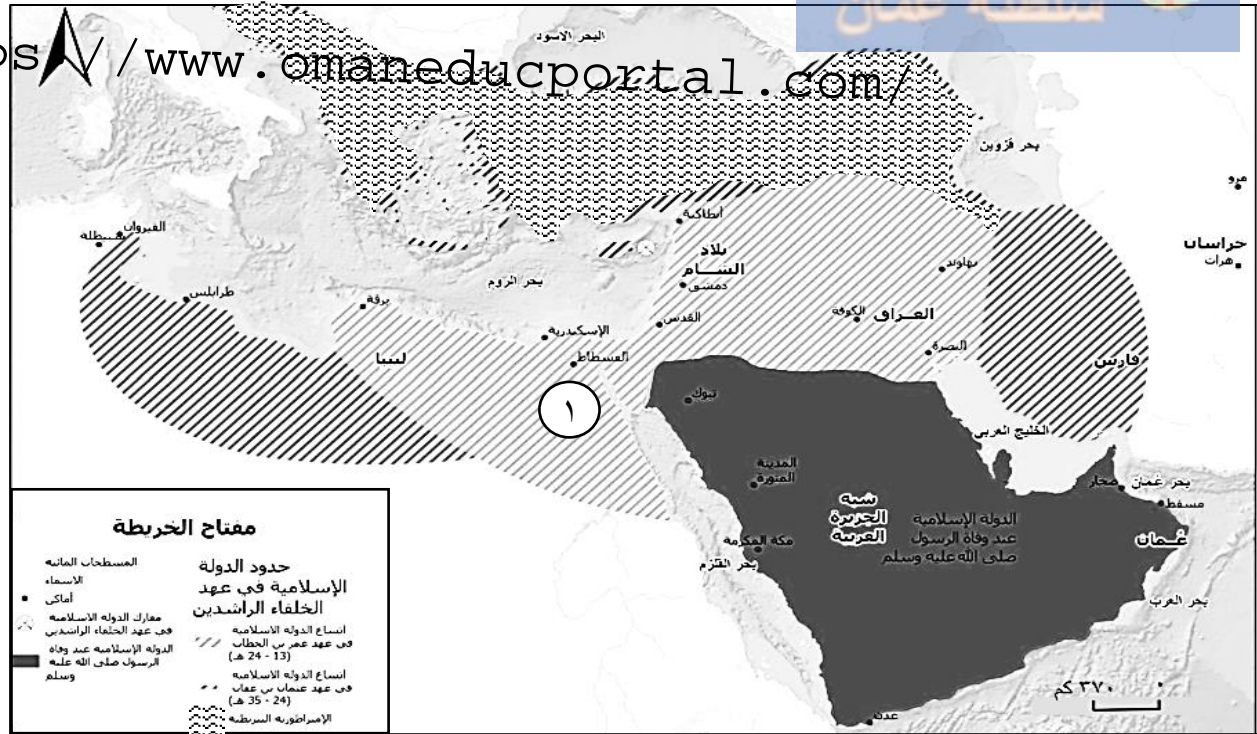
٤- عرف ما يلي:

.....	الخلفاء الراشدون
.....	الردة

٥- أكمل المخطط الآتي الذي يوضح النتائج المترتبة على الفتوحات الإسلامية:



٦- أدرس خريطة الفتوحات الإسلامية في عصر الخلفاء الراشدين ثم أجب عن الأسئلة التي تليها:



١- ضع دائرة حول المدن الكبرى التي فتحت في عهد الخليفة عمر بن الخطاب رضى الله عنه .

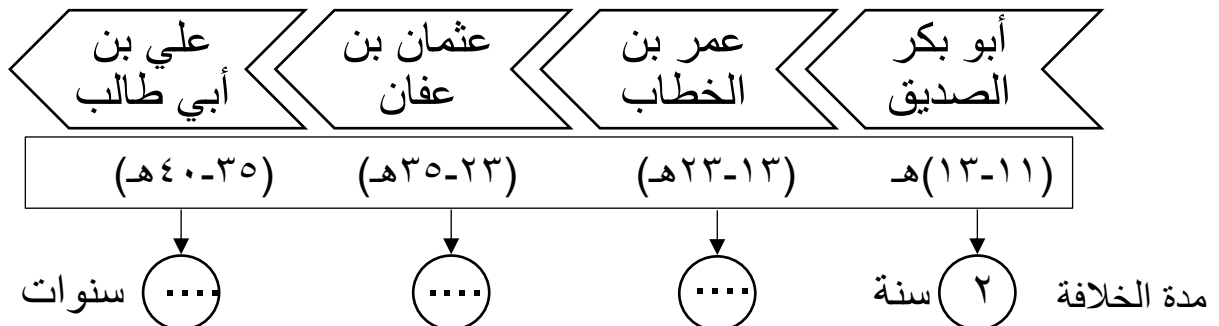
٢- الدولة العربية التي فتحها الخليفة عمر بن الخطاب رضى الله عنه والمشار إليها بالرقم (١) .

٣- استخرج أسماء المناطق التي فتحت في عهد عثمان بن عفان رضى الله عنه .

٧- قارن بين عهد الخليفة عمر بن الخطاب وعلي بن أبي طالب من خلال الجدول الآتي:

عمر بن الخطاب	علي بن أبي طالب
الفترة الزمنية	
طريقة الاختيار للخلافة	

١- أدرس المخطط الزمني الذي يوضح فترة حكم الخلفاء الراشدين ثم استنتج مدة الخلافة :





<https://www.omaneduportal.com/>

اليوم / التاريخ

عناصر الدرس /عناصر الدرس /

اليوم / التاريخ

عناصر الدرس /

اليوم / التاريخ

عناصر الدرس /

اليوم / التاريخ

عناصر الدرس /

اليوم / التاريخ

عناصر الدرس /

<https://www.omaneducportal.com/>

١- ما موقف عُمان بعد وفاة الرسول ﷺ ؟

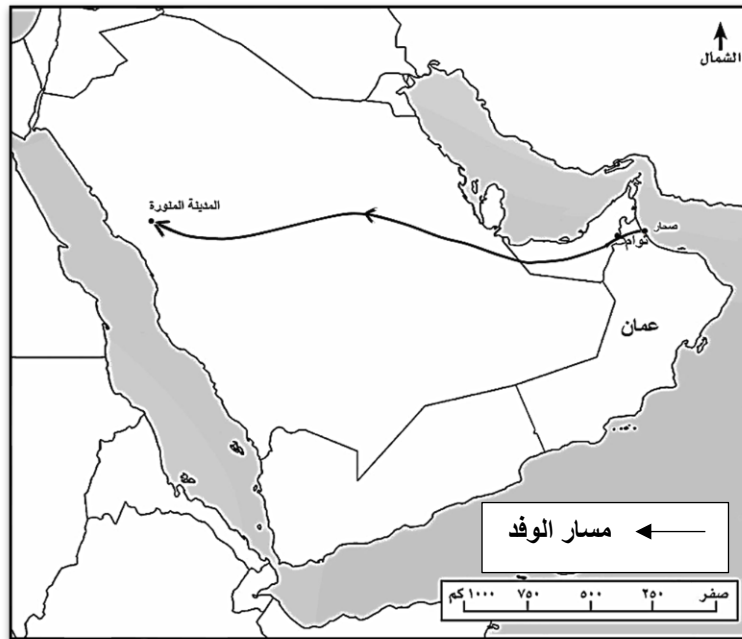
ثبتوا على دينهم واتجاه وفد منهم للتعزية بوفاة الرسول ﷺ وتهنئة أبو بكر الصديق.

٢- الملك العماني الذي ترأس الوفد العماني إلى المدينة المنورة بعد وفاة الرسول ﷺ.
عبد بن الجلندي

٣- كم كان عدد الوفد العماني؟
٧٠ شخصا.

٤- الشاعر العماني الذي ثبت على إسلامه وكان من ضمن الوفد العماني إلى المدينة المنورة.
عقبة بن النعمان العتكي.

٥- مسار الوفد العماني من عُمان إلى المدينة المنورة :



٦- علل : توجه الوفد العماني إلى المدينة المنورة بعد وفاة الرسول ﷺ ؟
للتعزية في وفاة الرسول ﷺ ، وتهنئة أبي بكر الصديق بالخلافة.

٧- ما الحادثة التي وقعت بعد وفاة الرسول صلى الله عليه وسلم نتيجة إنكار بعض المسلمين للإسلام أو أحد أركانه ؟
الردة (حيث ارتدت العديد من القبائل عن الدين الإسلامي)

٧- ما موقف العمانيين من الردة ؟
ثبتوا على دينهم.

<https://www.omaneducportal.com/>

٨- دال على ثبات العمانيين على دين الاسلام بعد وفاة الرسول صلى الله عليه وسلم.
مشاركتهم في مواجهة المرتدين مع الخليفة أبي بكر الصديق .

٩- ما الدور الذي لعبه العمانيون في حروب الردة بعد وفاة الرسول صلى الله عليه وسلم ؟
مواجهة الغساسنة المرتدين من قبيلة (آل جفنة) في الشام.

١٠- الخليفة الراشدي الذي كلف عبد بن الجندى لمواجهة الغساسنة من قبيلة آل جفنة.
أبو بكر الصديق

١١- وضع علاقة حكام آل الجندى بالخلافة الراشدة.
استمر حكام آل الجندى في الحكم مع وجود عمال يمثلون الخلافة في عمان.

١٢- عدد مهام العامل (الوالي) في عصر الخلفاء الراشدين في عمان؟
أ- جمع الصدقات
ب- تعليم الناس أكمور دينهم.

١٢- العمال الذي تم تعيينهم من قبل الخلفاء الراشدين في عُمان:

العمال	الفترة الزمنية
حذيفة بن محسن	عهد الخليفة أبي بكر الصديق
عثمان بن أبي العاص	عهد الخليفة عمر بن الخطاب

٢٠- ما المقصود بالعمال (الوالي)؟
هو ممثل حاكم الدولة في ولاية من الولايات .

٢١- علل: ثبات العمانيين على دينهم الإسلام بعد وفاة الرسول ﷺ ؟
دخول الإسلام عن اقتناع، معرفتهم بالمبادئ الحقيقية للإسلام.

أولاً: ضع دائرة حول الرمز الدال على الإجابة الصحيحة من بين البدائل المعطاة:
<https://www.omaneeducportal.com/>

١- الملك العماني الذي ترأس الوفد العماني إلى المدينة المنورة بعد وفاة الرسول ﷺ
أ- جيفر بن الجلندي
ب- عبد بن الجلندي

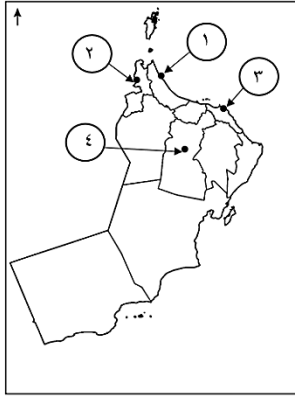
ج- الجلندي بن المستكبر
د- عباد بن عبد بن الجلندي

٢- العامل الذي عينه الخليفة أبو بكر الصديق على عُمان:

أ- حذيفة بن محسن
ب- عقبة بن النعمان

ج- عثمان بن أبي العاص
د- عمرو بن العاص

٣- الرقم الذي يشير إلى عاصمة عمان في عصر الخلافة الراشدة والتي انطلق منها الوفد العماني إلى المدينة المنورة:



أ- ١

ب- ٢

ج- ٣

د- ٤

٤- العامل الذي عينه الخليفة عمر بن الخطاب على عُمان:

أ- حذيفة بن محسن
ب- عقبة بن النعمان

ج- عثمان بن أبي العاص
د- عمرو بن العاص

٥- الشخصية العربية الذي شارك في حروب الردة في عهد الخليفة أبي بكر الصديق:

أ- عرفة البارقي
ب- عقبة بن النعمان العتكي

ج- كعب بن سور
د- حذيفة بن محسن

٦- المصطلح الذي يطلق على ممثل حاكم الدولة في ولاية من الولايات:

أ- المحافظ
ب- الوالي

ج- الوزير

د- الخليفة

٧- الشاعر العماني الذي ثبت على إسلامه وكان من ضمن الوفد العماني إلى المدينة المنورة.

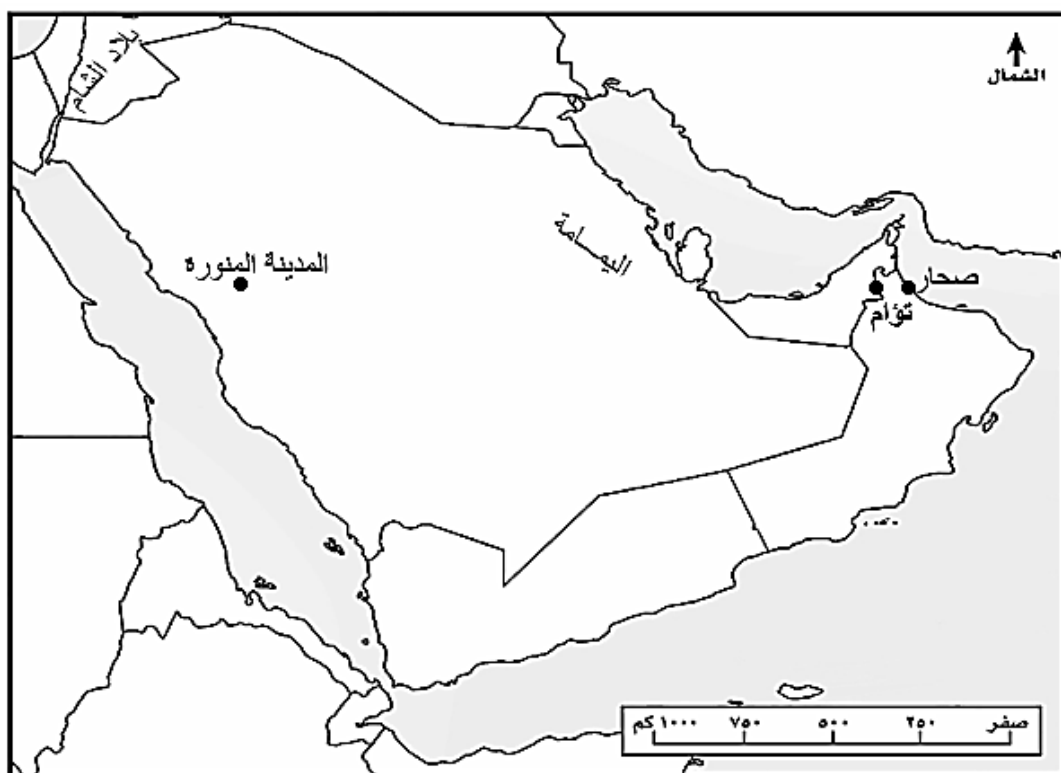
أ- عثمان بن أبي العاص
ب- عقبة بن النعمان العتكي

ج- كعب بن سور الأزدي
د- حذيفة بن محسن

١- علل ما يلي:
أ- توجه وفد عماني إلى المدينة المنورة بعد وفاة الرسول ﷺ؟

ب- عدم ارتداد العمانيين عن الإسلام بعد وفاة الرسول ﷺ؟

٢- أدرس خريطة شبه الجزيرة العربية ثم أجب عن الأسئلة التي تليها:



أ- ارسم على الخريطة خط مسار كل مما يلي باستخدام الرمز الموضح:

مسار الوفد العماني إلى المدينة المنورة بعد وفاة الرسول ﷺ . ←

مسار جيش عبد بن الجندى لمواجهة آل جفنة . ←-----

ب- أكتب على الخريطة في مكانه الصحيح كل من :

البحر الأحمر - بحر العرب - الخليج العربي - بحر عمان

ج- ضع دائرة حول عاصمة عُمان في عصر الخلافة الراشدة .

٣- دلل على ثبات العمانيين على دين الإسلام بعد وفاة الرسول صلى الله عليه وسلم.

٤- صنف الشخصيات التالية حسب الأعمال بما يناسبها في الجدول الآتي:

(عرفة البارقي - عقبة بن النعمان العتكي - عبد بن الجندى - عثمان بن أبي العاص)

الأعمال	اسم الشخصية
ترأس الوفد العماني إلى المدينة المنورة برفقة عمرو بن العاص	
عينه الخليفة عمر بن الخطاب والياً على عُمان	
شارك في حروب الردة في عهد الخليفة أبو بكر الصديق	
شاعر عماني كان من ضمن الوفد العماني إلى المدينة المنورة	

٥- عدد اثنين من مهام الوالي في عصر الخلفاء الراشدين.

.....

.....

٦- أقرأ النص الآتي ثم أجب عن الأسئلة التي تليها:

" معاشر أهل عُمان ... ثم أقام فيكم عمرو ما أقام مكرماً، وقد منّ الله عليكم بإسلام عبد وجيفر ابني الجندى ، وأعزكم الله بهم وأعزه بكم ، وكنتم على خير حال ، حتى أتتكم وفاة رسول الله ﷺ فأظهرتم ما يضاعف فضلكم، وقمتم مقاماً حمدناكم فيه ، ومحضتم بالنصيحة ، وشاركنم بالنفس والمال"

١- من قائل هذه الخطبة؟

.....

٢- ما المناسبة التي ألقى فيها هذه الخطبة؟

.....

٣- ما موقف العمانيين بعد وفاة الرسول ﷺ ؟

.....

٤- استنتج بعض القيم التي تحلى بها العمانيون.

.....



اليوم... التاريخ... <https://www.omaneducportal.com/> التاريخ... اليوم...

عناصر الدرس

عناصر الدرس

عناصر الدرس

عناصر الدرس

عناصر الدرس

عناصر الدرس

<https://www.omaneducportal.com/>

١- المنجزات العمانية في عصر الخلافة الراشدة:

المجال السياسي	المجال الاقتصادي	المجال الثقافي
المشاركة في الفتوحات الإسلامية وخاصة (البحرية)	١- التجارة/ نقل السفن العمانية البضائع إلى موانئ بعيدة عبر المحيط الهندي . ٢- الصناعة/ صناعة السفن	- نشر الإسلام - الاهتمام بالعلم مثل (الخطابة)

٢- علل : استعانة الخليفة عمر بن الخطاب بالعمانيين في الفتوحات الإسلامية البحرية. بسبب خبرتهم في الملاحة البحرية وحماسهم في المشاركة في الفتوحات الإسلامية.

٣- الدول التي شارك العمانيون في فتحها في عصر الخلافة الراشدة .
العراق – بلاد فارس(ايران حاليا) - قبرص- مصر- السند(باكستان حاليا).

٤- ما المقصود بالأسطول؟

هو مجموعة من السفن تستخدم لأغراض مدنية او عسكرية.

٥- علل : مشاركة العمانيين في فتح فارس والعراق والسند. بسبب التجارة وعمق العلاقة بين عمان وتلك المناطق وقرب الموقع الجغرافي منها.

٦- ما الدور الذي لعبه العمانيون في مجال التجارة في عصر الخلافة الراشدة. كانت السفن العمانية تنقل البضائع إلى موانئ بعيدة عبر المحيط الهندي.

٧- الصورة المقابلة توضح إحدى الصناعات التي تميز بها العمانيون في عصر الخلافة الراشدة .



الصناعة	السفن
مادة الصنع	الأخشاب
الدولة التي تجلب منها مادة الصنع	الهند
طريقة ربط وتثبيت مادة الصنع	الألياف



٨- علل: استخدام الألياف في صناعة السفن بدلا من المسامير.

بسبب توفرها في البيئة العمانية ومقاومتها للصدأ والتآكل في المياه المالحة وأسهل في الصيانة.

٩- الميناء الرئيسي للتجارة والملاحة في عُمان في عصر الخلافة الراشدة. صحار.

١٠- أهم الموانئ العمانية التي ازدهرت في عصر الخلافة الراشدة.

• صحار

• مَرَبَاط

<https://www.omaneducportal.com/>

١١- علل: ازدهار التجارة العمانية في عصر الخلافة الراشدة.

بسبب شهرة العمانيين في الملاحة البحرية وصناعة السفن وعلاقاتهم القديمة مع الدول المجاورة.

١٢- طرق نشر العمانيين للإسلام في عصر الخلافة الراشدة.

▪ من خلال الفتوحات الإسلامية

▪ التجار العمانيون

١٣- أبرز العلماء العمانيون الذين برزوا في عصر الخلافة الراشدة.

• كعب بن سور (عينه الخليفة عمر بن الخطاب قاضيا على البصرة (العراق) .

• صعصعة بن صوحان (من خطباء العرب المشهورين).

الأسئلة الموضوعية:

ضع دائرة حول الرمز الدال على الإجابة الصحيحة من بين البدائل المعطاة:

١- الشخصية العمانية التي عينها الخليفة عمر بن الخطاب قاضيا على البصرة:

أ- عقبة بن النعمان

ب- كعب بن سور

ج- عرفة البارقي

د- صعصعة بن صوحان

٢- المسطح المائي الذي يشير إليه الرقم (١) في الخريطة والذي عبرته السفن العمانية لنقل

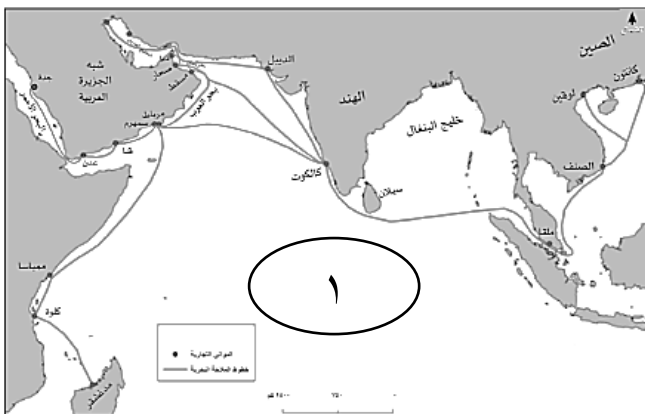
السلع:

أ- المحيط الهندي

ب- البحر الأحمر

ج- المحيط الأطلسي

د- بحر العرب



٣- الخطيب العماني الذي وصف بأنه من خطباء العرب المشهورين:

أ- عقبة بن النعمان

ب- كعب بن سور

<https://www.omaneducportal.com/>

ج- عرفة البارقي

٤- من المنجزات الثقافية للعمانيين في عصر الخلافة الراشدة:

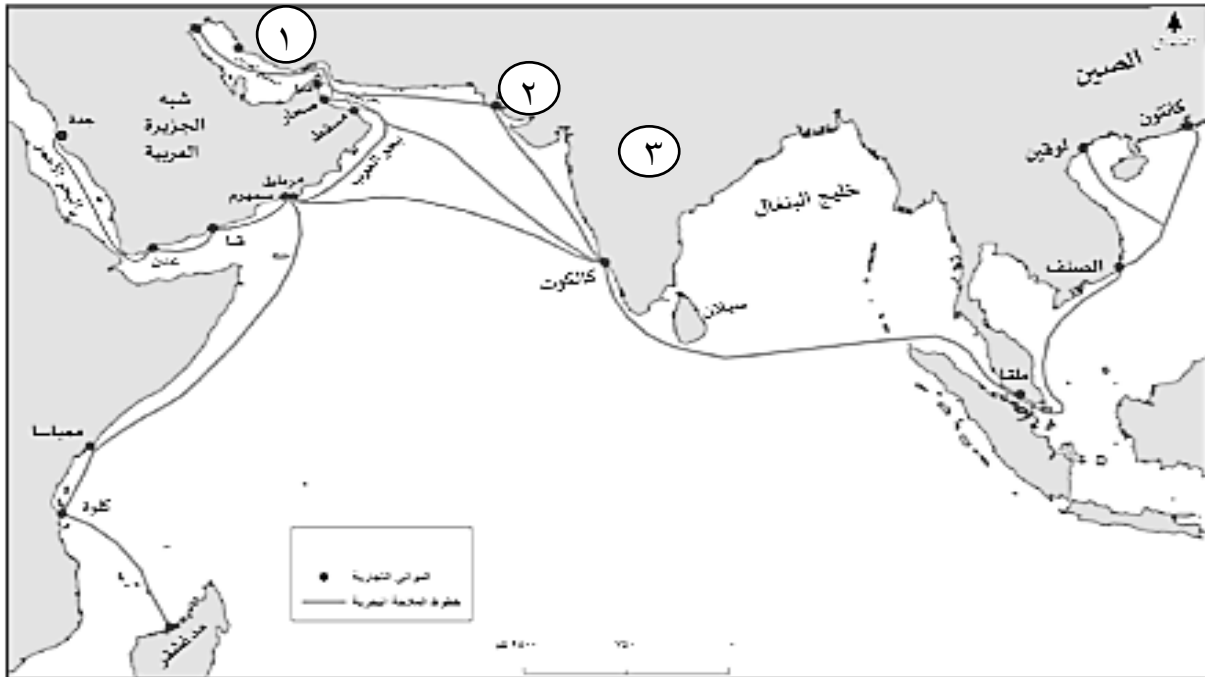
١- الخطابة ب- التجارة ج- الصناعة د- الزراعة

٥- الميناء الرئيسي للتجارة والملاحة في عُمان في عصر الخلافة الراشدة:

أ- مسقط ب- صور ج- صحار د- سمهرم

الأسئلة المقالية:

١- ادرس الخريطة التي أمامك والتي توضح خطوط الملاحة البحرية عبر المحيط الهندي ثم أجب عن الأسئلة التي تليها:



١- اكتب على الخريطة المحيط الهندي في مكانه الصحيح.

٢- أسماء الدول التي شارك العمانيون في فتحها في عصر الخلافة الراشدة والمشار إليها في الخريطة بالأرقام:

..... ١ ٢

٣- رقم الدولة التي كان يجلب منها العمانيون الأخشاب لصناعة السفن.....

٤- ضع دائرة حول الميناء الرئيسي للتجارة والملاحة في عمان في عصر الخلافة الراشدة

٢- صنف المنجزات العمانية في عصر الخلافة الراشدة الآتية بوضع علامة (√) تحت المجال في الجدول الآتي :

https://www.omaneducportal.com

المنجز	السياسي	الاقتصادي	الثقافي
نشر الإسلام			
تبادل السلع مع الدول المجاورة			
المشاركة في الفتوحات الإسلامية البحرية			
صناعة السفن			
الخطابة			

٣- علل ما يلي:

أ- اعتماد دولة الخلافة الراشدة في فتوحاتها البحرية على العمانيين بالدرجة الأولى.

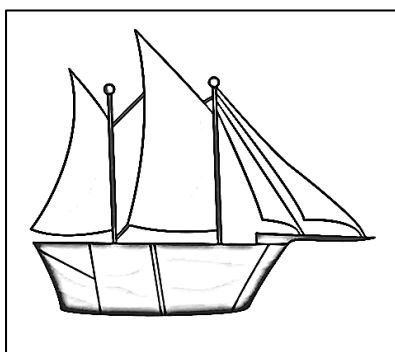
ب- ازدهار التجارة العمانية في عصر الخلافة الراشدة.

٤- أذكر اثنين مما يلي:

أ- المنجزات الثقافية للعمانيين في عصر الخلافة الراشدة.

ب- طرق نشر العمانيون للإسلام في عصر الخلافة الراشدة.

٥- ادرس الصورة التي أمامك والتي توضح إحدى الصناعات التي تميز بها العمانيون في عصر الخلافة الراشدة ثم اكمل الجدول الآتي:



اسم الصناعة	
مادة الصنع	
الدولة التي تجلب منها مادة الصنع	
طريقة ربط وتثبيت مادة الصنع	

٦- أكمل المخطط الآتي والذي يوضح أبرز العلماء العمانيون في عصر الخلافة الراشدة:

	كعب بن سور
من خطباء العرب المشهورين	

عنوان الدرس / ابة التعليمية

سلطنة عمان


<https://www.omaneducportal.com/>

اليوم / التاريخ

اليوم / التاريخ

عناصر الدرسعناصر الدرس

اليوم / التاريخ

اليوم / التاريخ

عناصر الدرسعناصر الدرس

اليوم / التاريخ

اليوم / التاريخ

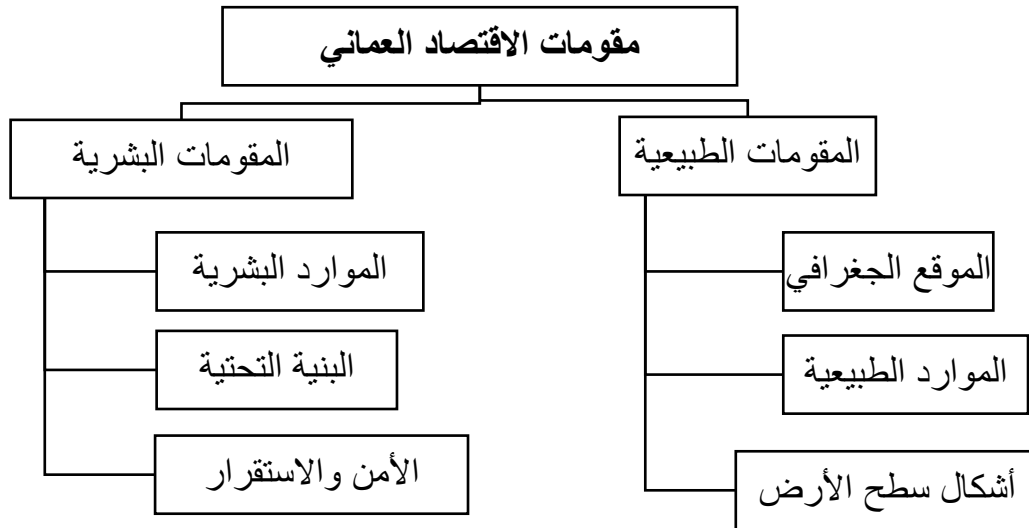
عناصر الدرسعناصر الدرس

<https://www.omaneducportal.com/>

١- ما النتيجة المرتبة على اعتماد الاقتصاد العماني على المقومات الطبيعية والبشرية المتوفرة واستثمارها.

تطور الاقتصاد العماني.

٢- مقومات الاقتصاد العماني:



٣- فسر: تتميز سلطنة عمان بالموقع الاستراتيجي المنفتح على العالم الخارجي.

لأنها تطل على مجموعة من البحار والمحيطات، وتشرف على مضيق هرمز، وترتبط بحدود برية مع مجموعة من الدول.

٤- الموقع الجغرافي لسلطنة عمان:

المحيط الذي يربطها بقارات العالم	الهندي
المضيق الذي تشرف عليه	هرمز
الدول التي ترتبط بحدود برية معها	السعودية - الإمارات - اليمن
المسطحات المائية التي تطل عليها	بحر العرب - بحر عمان - الخليج العربي



ممر مائي طبيعي يصل بين بحرين أو خليجين أو بحر وخليج.

٦- الأهمية الاقتصادية لموقع سلطنة عمان <https://www.omaneducportal.com>

التحكم بحركة السفن في مضيق هرمز وحلقة وصل بين الطرق التجارية بين آسيا وأفريقيا.

٧- الموارد الطبيعية في سلطنة عمان:

أهم الموارد الطبيعية في سلطنة عمان		
الموارد المائية	المعادن	مصادر الطاقة
الأفلاج والعيون	الجبس والكروم والنحاس	طاقة الشمس والرياح - النفط- الغاز الطبيعي

٨- علل: تنوع الموارد الطبيعية في سلطنة عمان.

بسبب اتساع مساحتها وموقعها الجغرافي والفلكي، وتكوينها الجيولوجي.

٩- أمثلة على استثمار سلطنة عمان للموارد الطبيعية.

مبادرة المدارس الخضراء

اسم المبادرة	المدارس الخضراء
الوزارة التي تشرف عليها	وزارة التربية والتعليم
الهدف منها	استثمار الموارد الطبيعية بشكل أمثل

١٠- أمثلة على أشكال سطح الأرض في سلطنة عمان.

أشكال سطح الأرض	السهول	الصحاري	البحار
الأنشطة الاقتصادية المرتبط بها	الزراعة	استخراج النفط والمعادن	استخراج الثروة السمكية

١١- كم يبلغ طول السواحل العمانية؟

٣١٦٥ كم ٢

١٢- أذكر جهود سلطنة عمان لتوفير كوادر بشرية مؤهلة.

- توفير فرص التعليم


- برامج تأهيل وتدريب الموارد البشرية .

١٣- دال على اهتمام السلطنة بقطاع التعليم.

من خلال توفير البيئة الداعمة والمحفزة للبحث العلمي والابتكار.

١٤- أبرز المنجزات العمانية في مجال الاهتمام بالموارد البشرية.

اسم المؤسسة	الأكاديمية السلطنة للإدارة
الهدف منها	تأهيل القيادات الإدارية وتطويرها وإعداد القيادات الواعدة



الأكاديمية السلطانية للإدارة
ROYAL ACADEMY OF MANAGEMENT



١٥- ما أهمية تدريب وتأهيل الكوادر البشرية للاقتصاد.
لتطوير وتنمية الاقتصاد

<https://www.omaneducportal.com/>

١٦- ما العناصر التي تتكون منها البنية التحتية الحديثة في سلطنة عمان؟
شبكة متقدمة من الطرق والموانئ والمطارات وشبكات المياه والاتصالات.

١٧- ما أهمية البنية التحتية؟
جذب الاستثمارات المحلية والأجنبية.

١٨- وضح أهمية البنية التحتية في جذب الاستثمارات المحلية والأجنبية.
تستخدم في نقل السلع والمواد الخام والكوادر البشرية

١٩- ما العلاقة بين الوضع السياسي للدولة وحجم الاستثمارات المحلية والأجنبية.
كلما كان الوضع السياسي مستقر وتوفرت الحماية للمستثمر ارتفع حجم الاستثمارات.

٢٠- ما أثر الأمن والاستقرار في نمو الاقتصاد وازدهاره.
كلما توفر الأمن والاستقرار في الدولة زاد من حجم الاستثمارات المحلية والأجنبية وهذا بدوره يؤدي إلى نمو الاقتصاد.

٢١- العوامل التي تسهم في جذب المستثمر الأجنبي في سلطنة عمان.
- الأمن والاستقرار
- القيم الاجتماعية التي يتحلّى بها المجتمع العماني (كالتسامح، والاحترام،).

٢٢- إذا كنت أحد المستثمرين في سلطنة عمان وتريد إنشاء أحد المشاريع الاقتصادية، أدرس المواقع الآتية واختر الموقع المناسب لمشروعك مع ذكر السبب.



الموقع (ب)



الموقع (أ)

الموقع (أ) هو الأنسب لموقع المشروع الاقتصادي
السبب: لأنه يحتوي على بنية تحتية متطورة .

أولاً: ضع دائرة حول الرمز الدال على الإجابة الصحيحة من بين البدائل المعطاة: <https://www.omaneducportal.com/>

١- المضيق المائي الذي تشرف عليه سلطنة عمان:

- أ- جبل طارق ب- المنذب ج- هرمز د- البسفور

٢- المصطلح الذي يطل على الممر المائي الطبيعي الذي يصل بين بحرين أو خليجين أو بحر وخليج:

- أ- الساحل ب- المضيق ج- القناة د- الخور

٣- المورد الطبيعي الظاهر في الصورة المقابلة:



أ- الغاز الطبيعي

ب- النفط

ج- الكروم

د- النحاس

٤- من المقومات البشرية للاقتصاد العماني:

أ- الأمن والاستقرار ب- الموقع الجغرافي

ج- الموارد الطبيعية د- أشكال سطح الأرض

٥- العامل الذي أسهم في تنوع الموارد الطبيعية في سلطنة عمان:

أ- اتساع مساحتها ب- موقعها الجغرافي

ج- تكوينها الجيولوجي د- جميع ما ذكر

٦- أبرز الأنشطة الاقتصادية التي تمارس في السهول في سلطنة عمان:

أ- الزراعة ب- استخراج المعادن

ج- استخراج النفط ب- الثروة السمكية

٧- أبرز المقومات البشرية للاقتصاد العماني أسهم في ارتفاع حجم الاستثمار الأجنبي والمحلي:

أ- الموارد البشرية ب- الموقع الجغرافي

ج- الموارد الطبيعية د- الأمن والاستقرار

٨- يبلغ طول السواحل العمانية بالكيلومتر:

- أ- ١١٦٥ ب- ٢١٦٥ ج- ٣١٦٥ د- ٤١٦٥

٩- الرقم الدال في الخريطة المقابلة على موقع المضيق الذي

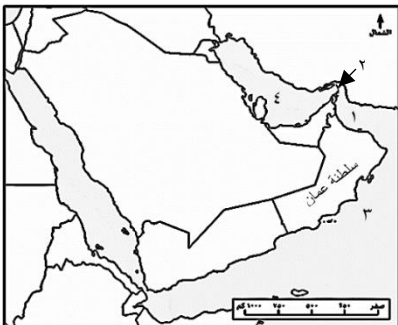
تشرف عليه سلطنة عمان:

أ- ١

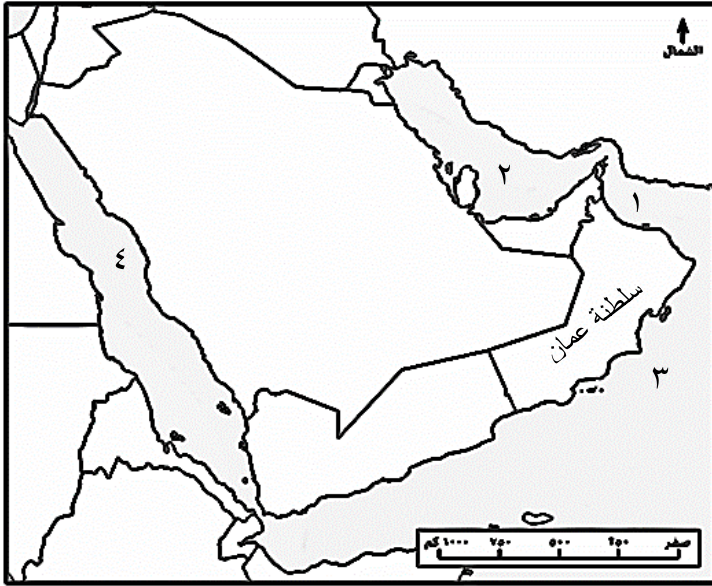
ب- ٢

ج- ٣

د- ٤



١- ادرس خريطة شبه الجزيرة العربية ثم أجب عن الأسئلة التالية: <https://www.omanequ coastal portal.com/>



- ١- أكتب الأرقام التي تشير على المسطحات المائية الآتية :
 - أ- بحر العرب (.....)
 - ب- بحر عمان (.....)
 - ج- الخليج العربي (.....)
 - ٢- أكتب على الخريطة الدول التي ترتبط بحدود برية مع سلطنة عمان.
 - ٣- ما أهمية الموقع الجغرافي لسلطنة عمان.
-
-

٢- ادرس الصورة التي أمامك ثم أجب عن الأسئلة التالية:



أ- إذا أردت القيام بمشروع اقتصادي في الموقع الظاهر في الصورة المقابلة.

هل تعتبر الموقع مناسب لإقامة مشروع؟

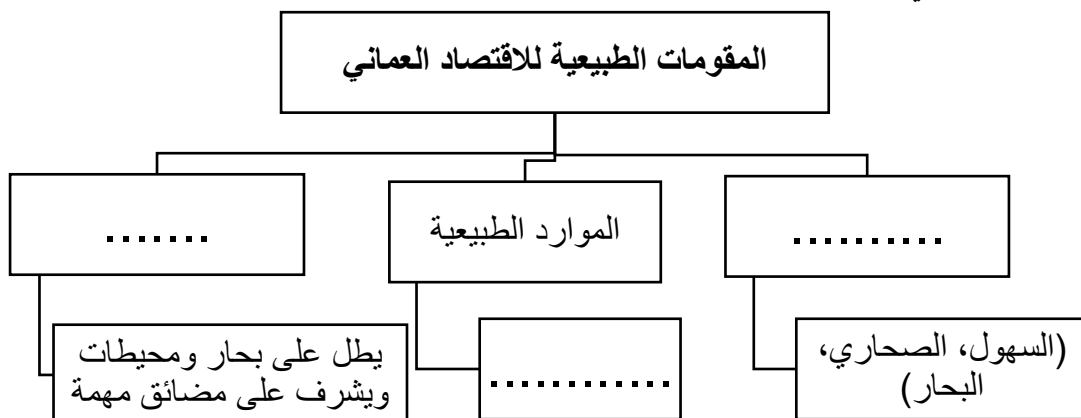
- نعم ☐
- لا ☐

ب- برأيك ما الأسباب؟

.....

.....

٣- أكمل المخطط الآتي بما يناسبه:



٤- علل ما يلي:
أ- تنوع الموارد الطبيعية في سلطنة عمان
.....
https://www.omaneducportal.com/


ب- اهتمام سلطنة عمان بتدريب وتأهيل الكوادر البشرية.
.....

٥- " أسهم استقرار الوضع السياسي وتوفير القوانين والتشريعات التي تؤمن الحماية الكاملة للمستثمر في ارتفاع حجم الاستثمارات المحلية والأجنبية في سلطنة عمان. في ضوء هذه العبارة أجب عما يلي:

أ- استنتج المقوم البشري للاقتصاد العماني الذي ورد في الفقرة السابقة.
.....

ب- ما العلاقة بين استقرار الوضع السياسي وارتفاع حجم الاستثمارات.
.....

٦- ادرس الشكل المقابل (الذي يوضح شعار إحدى المؤسسات في سلطنة عمان) ثم أجب عن الأسئلة التي تليه :



• اسم المؤسسة:

.....

• الهدف من إنشائها:

.....

.....

٧- أذكر اثنين مما يلي:

أ- المقومات البشرية للاقتصاد العماني.
.....

ب- عناصر البنية التحتية في سلطنة عمان.
.....

٨- عدد الأنشطة الاقتصادية المرتبطة بأشكال سطح الأرض في سلطنة عمان من خلال الجدول الآتي:

السهول	البحار	الصحاري

عنوان الدرس/

سلطنة عمان



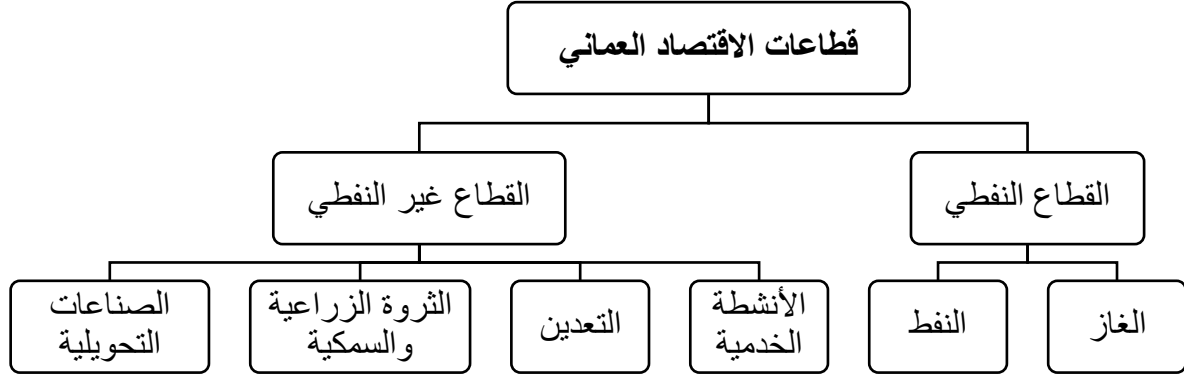
اليوم/..... التاريخ/.....
<https://www.omaneeducationportal.com>

عناصر الدرس/عناصر الدرس/عناصر الدرس/عناصر الدرس/عناصر الدرس/عناصر الدرس/

<https://www.omaneducportal.com/>

١- ما السياسة التي اتبعتها حكومة سلطنة عمان لتطوير اقتصادها؟
سياسة التنويع الاقتصادي.

٢- قطاعات الاقتصاد العماني:



٣- علل : يعد القطاع النفطي من المكونات المهمة في الاقتصاد العماني.
لأنه يسهم بشكل كبير في نمو الاقتصاد، والاستفادة منه في دعم القطاعات غير النفطية .

٤- أذكر الأنشطة الاقتصادية المرتبطة بالقطاع النفطي.



٥- علل : يمثل القطاع غير النفطي محور الاهتمام الحالي لسلطنة عمان في الاقتصاد.
بهدف تنويع مصادر الدخل والتقليل من الاعتماد على القطاع النفطي .

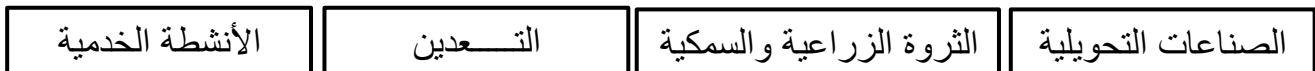
٦- ما المقصود بالخطة الخمسية ؟

هي مجموعات إجراءات تضعها الحكومة لتنفيذها في خمس سنوات.

٧- ما الخطة الخمسية التي تركز على التنويع الاقتصادي من خلال الاهتمام بالقطاعات الاقتصادية الأخرى؟

الخطة الخمسية العاشرة.

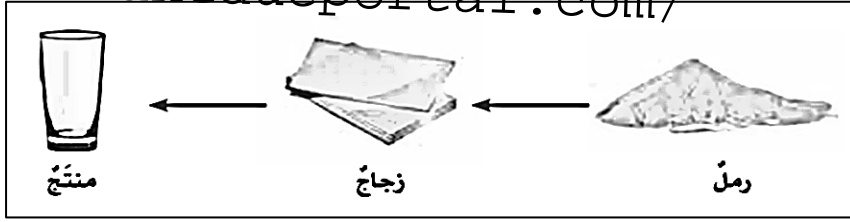
٨- أذكر القطاعات التي يتكون منها القطاع غير النفطي.



٩- ما المقصود بالصناعات التحويلية؟

تحويل المواد الخام الأولية إلى منتجات تسهم في توفير احتياجات المستهلك.

مثال:



١٠- علل: اهتمام سلطنة عمان في خططها بالصناعات التحويلية.

لتلبية احتياجات المستهلك، وبهدف تنويع مصادر الدخل والتقليل من الاعتماد على القطاع النفطي .

١١- من الأمثلة على الصناعات التحويلية.

- الصناعات الزجاجية
- الصناعات البلاستيكية
- الصناعات الدوائية
- الصناعات الغذائية
- المستلزمات الطبية
- تجهيزات المستشفيات والخدمات الصحية.

١٢- علل: تركيز سلطنة عمان على قطاع الثروة الزراعية والسمكية.

لتلبية احتياجات السكان من الغذاء وتحقيق الأمن الغذائي.

١٣- ما المقصود بالأمن الغذائي؟

القدرة على توفير احتياجات السكان من الغذاء محليا بصورة مستمرة.


١٤- ما الوسائل التي اتبعتها سلطنة عمان لتحقيق الأمن الغذائي؟

• التوسع في موانئ الصيد

• توفير الفرص الاستثمارية للأراضي الزراعية

١٥- الأنشطة الاقتصادية المرتبطة بقطاع الثروة الزراعية والسمكية.

- الاستزراع السمكي
- تصنيع وتسويق التمور والألبان واللحوم بأنواعها.



صورة توضح الاستزراع السمكي

١٦- الأنشطة الاقتصادية المرتبطة بقطاع التعدين.

التنقيب عن المعادن، واستخراجها، والإنتاج والتسويق.

١٧- القطاع الذي يرتبط بالثروات المعدنية واستثمارها في سلطنة عمان.

قطاع التعدين

١٨- رقم المرسوم السلطاني الذي صدر فيه قانون الثروة المعدنية.

٢٠١٩/٢٩م

١٩- ما الهدف من اصدار قانون الثروة المعدنية عام ٢٠١٩م في سلطنة عمان؟
لحماية الموارد المعدنية وآلية الاستفادة منها اقتصاديا.

٢٠- ما العلاقة بين قطاع التعدين وقطاع التحويلية؟
<https://www.omangeducation.gov.om/>

علاقة تكاملية حيث يوفر قطاع التعدين المادة الخام (المعادن) التي يتم تحويلها لأشياء مفيدة (الصناعات التحويلية).

٢١- ما المقصود بكل من :

أ- الخدمات اللوجستية: هي إدارة نقل الموارد والبضائع المختلفة من مناطق الإنتاج إلى مناطق التسويق.

ب- التجارة الالكترونية: نظام يتيح للأفراد والشركات والمؤسسات بيع وشراء وتسويق السلع والخدمات والمعلومات عبر شبكة الانترنت.

٢٢- أذكر الأنشطة الاقتصادية المرتبطة بقطاع الأنشطة الخدمية.

- التعليم
- البحث العلمي والابتكار
- النقل والتخزين
- الخدمات اللوجستية
- التجارة الالكترونية
- السياحة (الثقافية والتراثية).

٢٣- ما المقصود بالنتائج الإجمالي المحلي؟

مؤشر يقيس قيمة السلع والخدمات في الدولة خلال فترة زمنية (سنة أو نصف سنة).

٢٤- نسب مساهمة القطاعات الاقتصادية في الناتج الإجمالي المحلي عام ٢٠٢٣م.

أ- القطاع الذي يساهم بأعلى نسبة في الناتج الإجمالي المحلي.

قطاع النفط .

ب- إجمالي مساهمة القطاع النفطي هو :

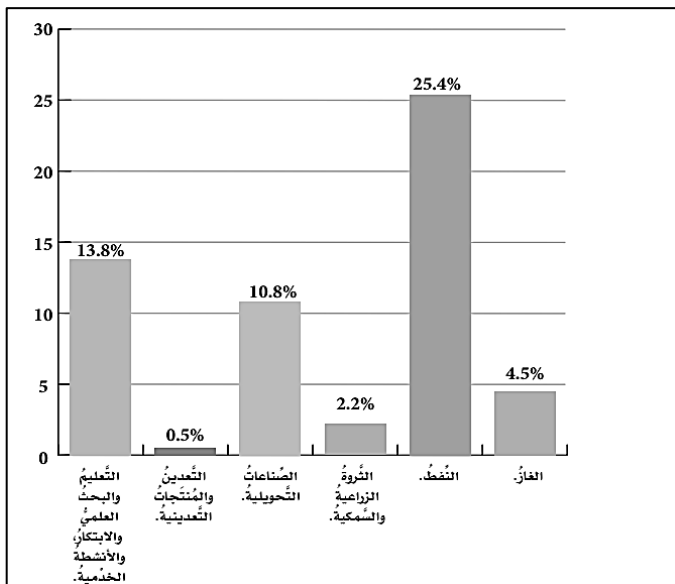
$$\text{الغاز} + \text{النفط} = ٢٥,٤ + ٤,٥ = ٢٩,٩ \%$$

ج- إجمالي مساهمة القطاع غير النفطي:

$$٢,٢ + ١٠,٨ + ٠,٥ + ١٣,٨ = ٢٧,٣ \%$$

د- القطاع غير النفطي الأكثر مساهمة في الناتج الإجمالي المحلي.

قطاع الأنشطة الخدمية



أولاً: ضع دائرة حول الرمز الدال على الإجابة الصحيحة من بين البدائل المعطاة:
<https://www.omaneducportal.com/>

١- المصطلح الذي يطلق على القدرة على توفير احتياجات السكان من الغذاء محلياً بصورة مستمرة :

أ- الصناعات التحويلية

ب- الأمن الغذائي

ج- التعدين

د- الإنتاج

٢- العام الميلادي الذي أصدر فيه قانون الثروة المعدنية في سلطنة عمان:

أ- ٢٠١٦

ب- ٢٠١٧

ج- ٢٠١٨

د- ٢٠١٩

٣- القطاع الاقتصادي الذي يمثله النشاط الاقتصادي في الصورة المقابلة:



أ- الثروة الزراعية والسمكية

ب- التعدين

ج- الأنشطة الخدمية

د- الصناعات التحويلية

٤- الخطة الخمسية التي تركز على التنوع الاقتصادي من خلال الاهتمام بالقطاعات الاقتصادية

الأخرى:

أ- الرابعة

ب- السادسة

ج- الثامنة

د- العاشرة

٥- القطاع الذي يساهم بشكل كبير في نمو الاقتصاد العماني:

أ- النفط

ب- التعدين

ج- الثروة السمكية

د- الصناعات التحويلية

٦- المصطلح الذي يطلق على إدارة ونقل الموارد والبضائع والسلع من مناطق الإنتاج إلى مناطق

الاستهلاك:

أ- التجارة الإلكترونية

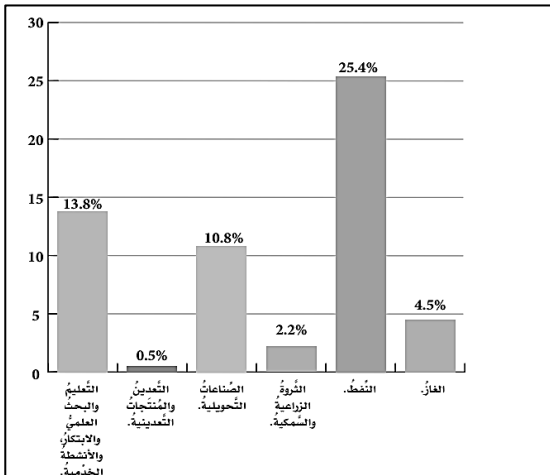
ب- الخدمات اللوجستية

ج- الخطة الخمسية

د- الأمن الغذائي

٧- الترتيب التنازلي الصحيح لنسبة مساهمة القطاعات غير النفطية في الناتج الإجمالي المحلي من

خلال الشكل البياني المقابل:



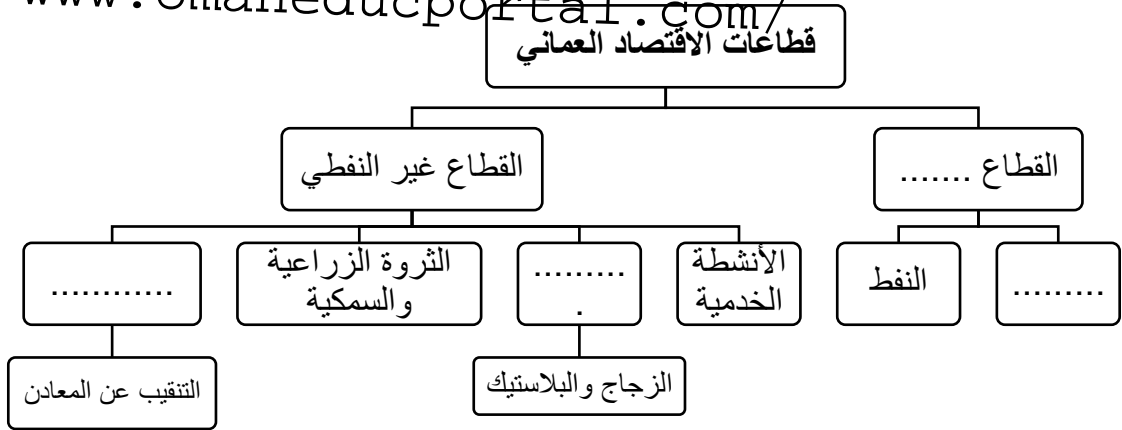
أ-	الصناعات التحويلية	التعدين	الأنشطة الخدمية	الثروة الزراعية والسمكية
----	--------------------	---------	-----------------	--------------------------

ب-	الأنشطة الخدمية	التعدين	الصناعات التحويلية	الثروة الزراعية والسمكية
----	-----------------	---------	--------------------	--------------------------

ج-	التعدين	الثروة الزراعية والسمكية	الصناعات التحويلية	الأنشطة الخدمية
----	---------	--------------------------	--------------------	-----------------

د-	الأنشطة الخدمية	الصناعات التحويلية	الثروة الزراعية والسمكية	التعدين
----	-----------------	--------------------	--------------------------	---------

أولاً: ١- أكمل المخطط التالي الذي يوضح قطاعات الاقتصاد العماني:



٢- صنف الأنشطة الاقتصادية حسب القطاع الاقتصادي الذي تنتمي إليه:

(التجارة الإلكترونية - المستلزمات الطبية - السياحة - تصنيع وتسويق الألبان - صناعات زجاجية- استخراج النحاس)

الصناعات التحويلية	الثروة الزراعية والسمكية	التعدين	الأنشطة الخدمية

٣- علل ما يلي:

أ- يعد القطاع النفطي من المكونات المهمة في الاقتصاد العماني.

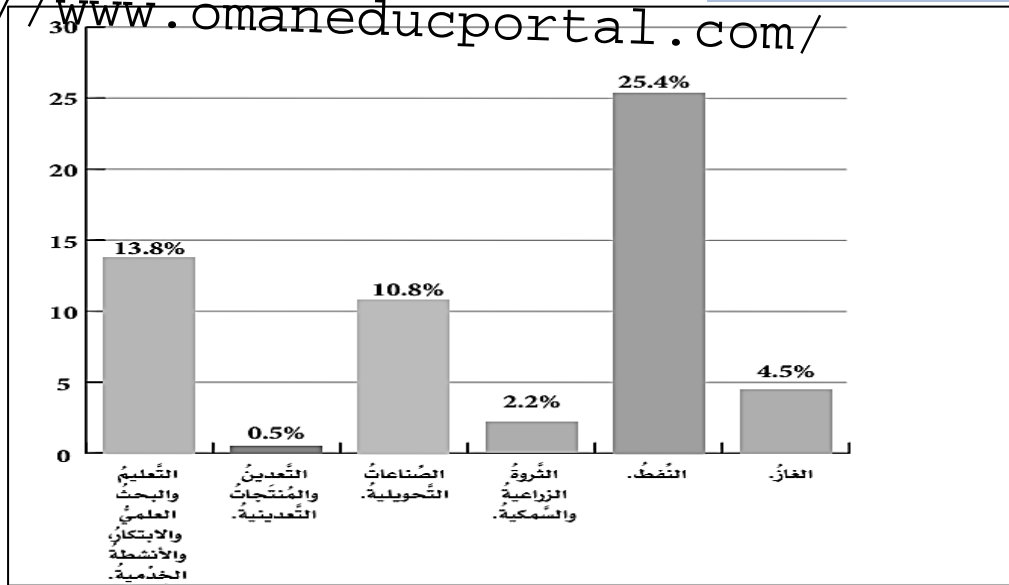
ب- تركيز سلطنة عمان على قطاع الثروة الزراعية والسمكية .

ج- اصدار قانون الثروة المعدنية عام ٢٠١٩م في سلطنة عمان

٤- أكتب اسم المصطلح أو المفهوم الدال أمام كل عبارة من العبارات الآتية :

.....	نظام يتيح للأفراد والشركات والمؤسسات بيع وشراء وتسويق السلع والخدمات والمعلومات عبر شبكة الانترنت.
.....	مؤشر يقيس قيمة السلع والخدمات في الدولة خلال فترة زمنية (سنة أو نصف سنة).
.....	هي مجموعات إجراءات تضعها الحكومة لتنفذه في خمس سنوات.
.....	هي إدارة نقل الموارد والبضائع المختلفة من مناطق الإنتاج إلى مناطق التسويق.
.....	تحويل المواد الخام الأولية إلى منتجات تسهم في توفير احتياجات المستهلك.

٥- ادرس الشكل البياني الآتي (الذي يوضح نسب مساهمة القطاعات الاقتصادية في الناتج الإجمالي المحلي عام ٢٠٢٣ م) ثم أجب عن الأسئلة التي تليه:



أ- صنف القطاعات الاقتصادية في الشكل السابق حسب نوعها في الجدول الآتي:

القطاعات النفطية	القطاعات غير النفطية

ب- ما القطاع الذي يساهم بأعلى نسبة في الناتج الإجمالي المحلي؟

.....

ج- رتب تنازليا القطاعات الاقتصادية حسب مساهمتها في الناتج الإجمالي المحلي.

.....

د- ما إجمالي مساهمة القطاعات النفطية في الناتج الإجمالي المحلي؟

.....

٦- عددي اثنين من كل مما يلي:

أ- الأنشطة الاقتصادية المرتبطة بالقطاع النفطي.

..... ،

ب- أمثلة على الصناعات التحويلية.

..... ،

ج- الأنشطة الاقتصادية المرتبطة بقطاع الثروة الزراعية والسمكية.

..... ،



<https://www.omaneduportal.com/>

اليوم / التاريخ

عناصر الدرس /

عناصر الدرس /

اليوم / التاريخ

عناصر الدرس /

اليوم / التاريخ

عناصر الدرس /

اليوم / التاريخ

عناصر الدرس /

اليوم / التاريخ

عناصر الدرس /

<https://www.omaneducportal.com/>

١- دليل : اهتمام سلطنة عمان بالتنوع الاقتصادي .
تنفيذ العديد من المشاريع الاقتصادية الواعدة في مختلف المجالات.

٢- المشاريع الاقتصادية العمانية في القطاع النفطي.

		صورة للمشروع
مصفاة الدقم	محطة مسندم للطاقة	اسم المشروع
الوسطى	مسندم	المحافظة
الدقم	بخاء	الولاية
<ul style="list-style-type: none"> - مشروع مشترك بين عمان والكويت. - أحد أكبر مشروعات تكرير النفط في الشرق الأوسط. - يقع على خطوط الشحن البحري الدولي في المحيط الهندي. 	<ul style="list-style-type: none"> - يعد أكبر المشروعات الاستثمارية في قطاع الطاقة بمحافظة مسندم. - يعزز إمداد المشاريع الصناعية بالطاقة. 	الأهمية

٣- دليل: اهتمام سلطنة عمان بالمشاريع المرتبطة بالطاقة المتجددة.
انتاج الهيدروجين الأخضر وتصديره من خلال توقيع العديد من الاتفاقيات لتطوير المشاريع المتعلقة بهذا المجال.

٤- علل: تسعى سلطنة عمان إلى زيادة المشاريع الاقتصادية في القطاع غير النفطي.
بهدف التقليل من الاعتماد على القطاع النفطي .

٥- علل: تركيز السلطنة في خططها الاقتصادية على مشاريع الصناعات التحويلية.
للاستفادة من الموارد الطبيعية.

٦- علل: اهتمام السلطنة بتنفيذ عدد من المشاريع اللوجستية .
لدعم مشاريع الصناعات التحويلية .

٧- دليل: تسعى سلطنة عمان إلى تحقيق الاكتفاء الذاتي من الغذاء.
إنشاء مشاريع الأمن الغذائي مثل مشروع المليون نخلة ومشروع استزراع الصفيح.

٨- ما المقصود بالصفيح؟

هو كائن بحري من الرخويات، يعيش في المناطق الساحلية .

٩- المشاريع الاقتصادية العمانية في القطاع غير النفطي.

اسم المشروع	المحافظة	الولاية	نبذة عنه
مجمع لوى لصناعات البوليمير	شمال الباطنة	صالح	- يوفر المادة الخام للصناعات البلاستيكية
مدينة خزائن الاقتصادية	جنوب الباطنة	بركاء	- تضم ميناء برية يربط سلطنة عمان بالأسواق العالمية - تضم مصانع لإعادة التدوير - تضم سوقا للخضار والفواكه.
مشروع المليون نخلة	٦ محافظات في سلطنة عمان	---	- تم إنشاء هذا المشروع أوامر سامية من السلطان قابوس بن سعيد طيب الله ثراه. - يعتمد على استخدام التقنيات الحديثة في مجال الزراعة. - يضم (١١) مزرعة موزعة على ٦ محافظات عمانية.
استزراع الصفيح	---	---	أهميته: - يتم تصديره للأسواق العالمية - زيادة المخزون الطبيعي من الصفيح في سلطنة عمان.

١٠- خريطة نماذج من المشاريع الاقتصادية الواعدة في سلطنة عمان:

الولاية	المحافظة	اسم المشروع
بخاء	مسندم	محطة مسندم للطاقة
صحار	شمال الباطنة	مجمع لوى لصناعات البوليمير
بركاء	جنوب الباطنة	مدينة خزائن الاقتصادية
عبري	الظاهرة	مزرعة الصفا
الدقم	الوسطى	مصفاة الدقم
مقشن	ظفار	مزرعة النجد
مرباط	ظفار	استزراع الصفيح العماني

١١- ما أهمية المشاريع الاقتصادية الحديثة
للفرد والمجتمع؟

الفرد: فرص عمل - تحسين المستوى المعيشي

المجتمع: تطوير البنية التحتية- الاستدامة البيئية-
تطوير الخدمات.

أولاً: ضع دائرة حوال الرمز الدال على الإجابة الصحيحة من بين البدائل المعطاة:
<https://www.omaneducportal.com/>

- ١- الدولة العربية التي اشتركت مع سلطنة عمان في مشروع مصفاة الدقم :
أ- قطر ب- السعودية ج- الكويت د- البحرين

٢- رقم المحافظة العمانية التي يوجد بها مشروع مدينة خزائن الصناعية :



- أ- ١
ب- ٢
ج- ٣
د- ٤

٣- عدد المزارع التي يضمها مشروع المليون نخلة في سلطنة عمان:

- أ- ٩ ب- ١٠ ج- ١١ د- ١٢

٤- من أكبر المشاريع في مجال الصناعات التحويلية في ولاية صحار:

- أ- مجمع لوى لصناعات البوليمير ب- مدينة خزائن الاقتصادية
ج- مصفاة الدقم د- محطة مسندم للطاقة

٥- المشروع الاقتصادي في سلطنة عمان الذي توضحه الصورة المقابلة :



- أ- مجمع لوى لصناعات البوليمير
ب- مدينة خزائن الاقتصادية
ج- مصفاة الدقم
د- محطة مسندم للطاقة

٦- أحد أكبر مشروعات تكرير النفط في الشرق الأوسط:

- أ- مجمع لوى لصناعات البوليمير ب- مدينة خزائن الاقتصادية
ج- مصفاة الدقم د- محطة مسندم للطاقة

١- علل ما يلي: <https://www.omaneducportal.com/>

أ- اهتمام السلطنة بتنفيذ عدد من المشاريع اللوجستية .

ب- تركيز السلطنة في خططها الاقتصادية على مشاريع الصناعات التحويلية.

٢- قارن بين المشاريع الاقتصادية النفطية الآتية من خلال الجدول الآتي:

مصفاة الدقم	محطة مسندم للطاقة	
		الولاية العمانية
		المحافظة
		الأهمية الاقتصادية

٣- دلل ما يلي:

أ- اهتمام سلطنة عمان بالمشاريع المرتبطة بالطاقة المتجددة.

ب- تسعى سلطنة عمان إلى تحقيق الاكتفاء الذاتي من الغذاء.

٤- أقرأ النص التالي وأجب عن الأسئلة التي تليه:

(تسعى سلطنة عمان إلى زيادة المشاريع الاقتصادية في القطاع غير النفطي وذلك بهدف التقليل من الاعتماد على القطاع النفطي، إذا ركزت في خططها الاقتصادية على مشاريع الصناعات التحويلية وتنفيذ المشاريع اللوجستية ..).

أ- علل: اهتمام سلطنة عمان بزيادة المشاريع الاقتصادية في القطاع غير النفطي.

ب- أذكر مثال على المشاريع الاقتصادية في العمانية الواعدة في مجال الصناعات التحويلية .


ج- برأيك ما أهمية المشاريع الاقتصادية الحديثة للفرد.

٥- أدرس الصور الآتية التي توضح بعض المشاريع الاقتصادية في سلطنة عمان ثم أجب عن الأسئلة التي تليها:

<https://www.omaneducportal.com/>



(٢)



(١)

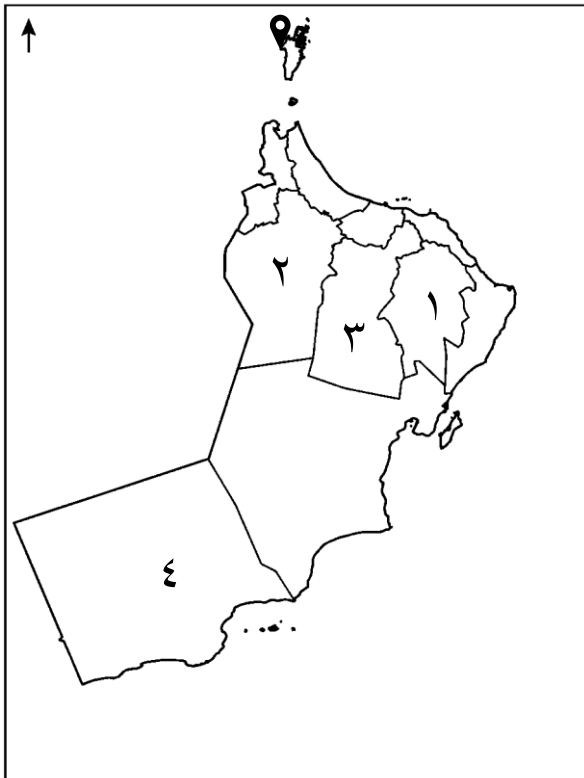
أ- ما الهدف الذي تسعى سلطنة عمان لتحقيقه من المشاريع رقم (١) و (٢)؟

ب- الكائن البحري التي تم استزراعها في المشروع رقم (٢).

ج- ما الأهمية الاقتصادية التي حققها المشروع (٢).

د- عدد المزارع التي إنشائها لتنفيذ المشروع رقم (١).

٦- أدرس خريطة سلطنة عمان التي أمامك ثم أجب عن الأسئلة الآتية:

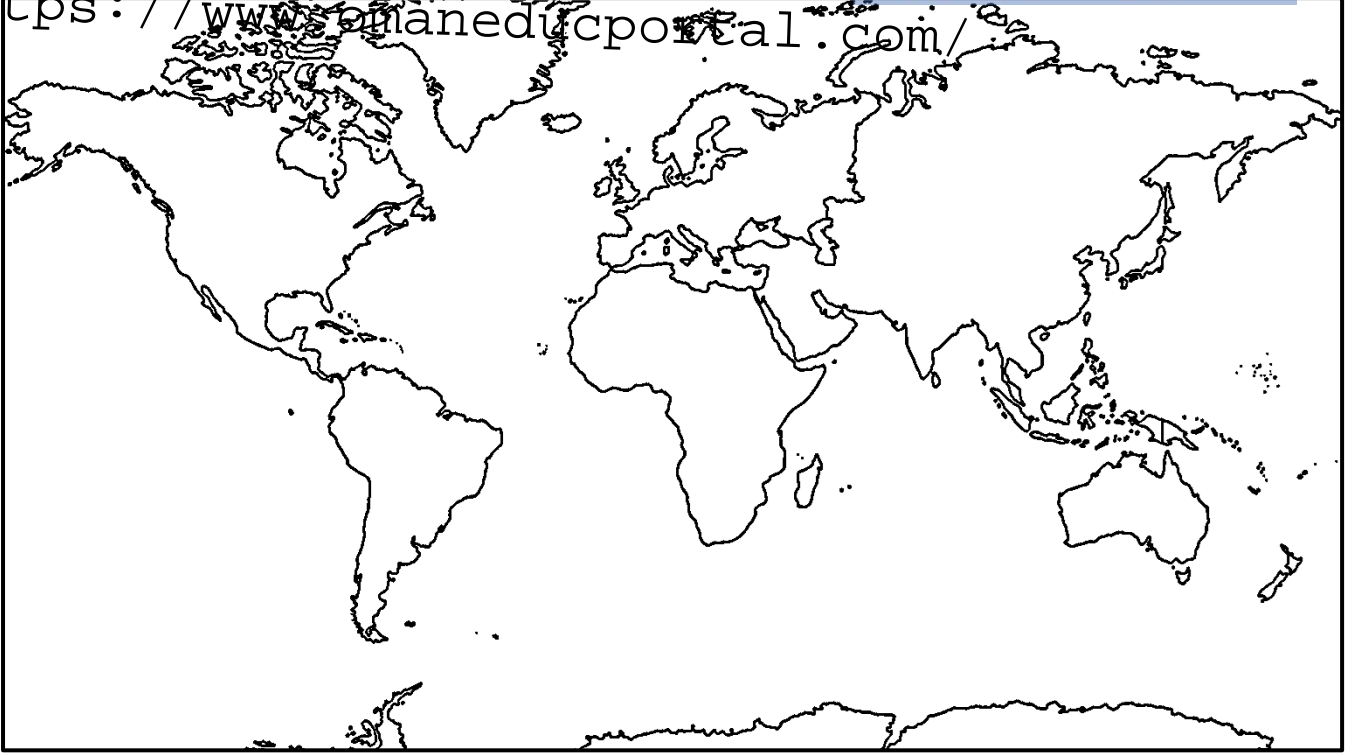


١- الرقم الذي يشير إلى المحافظة التي تقع فيها مزرعة الصفا.

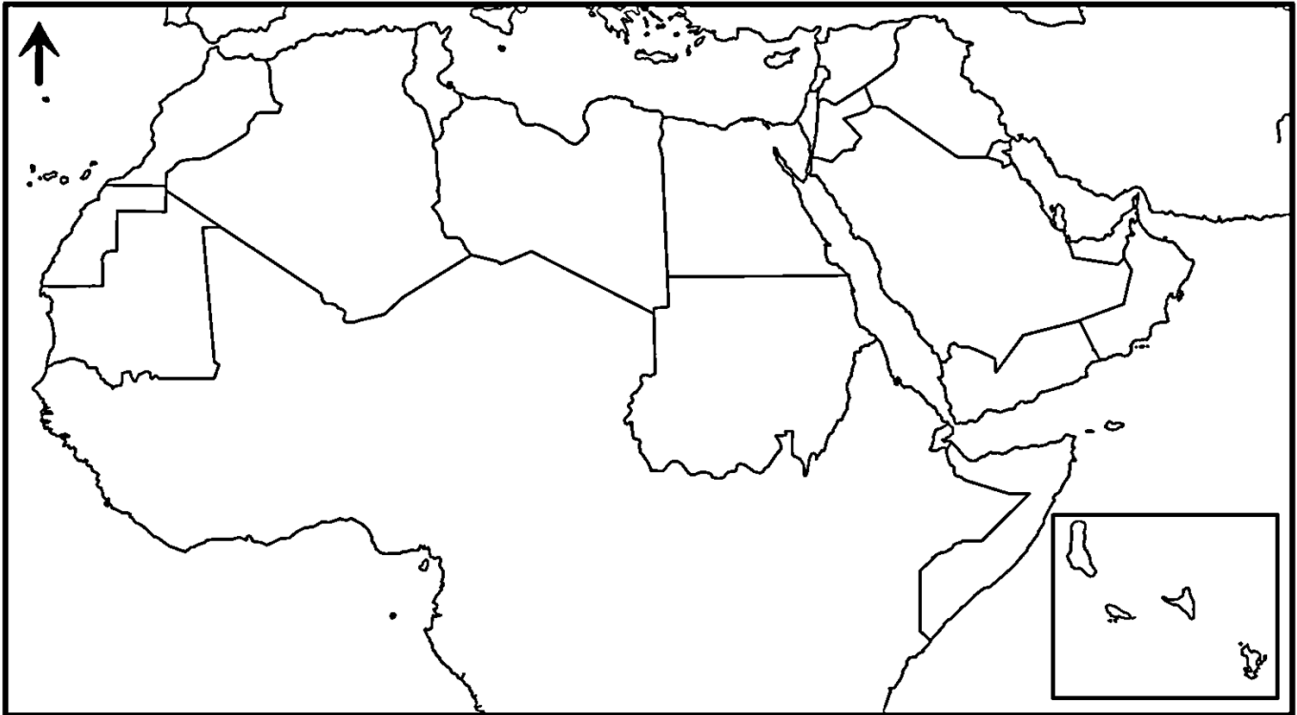
٢- أكتب على الخريطة اسم المحافظة العمانية التي تقع فيها مصفاة الدقم.

٣- ما الأهمية الاقتصادية التي اكتسبتها محافظة مسندم من المشروع المشار إليه بالرمز 📍 في الخريطة؟

<https://www.omaneducportal.com/>



خريطة العالم



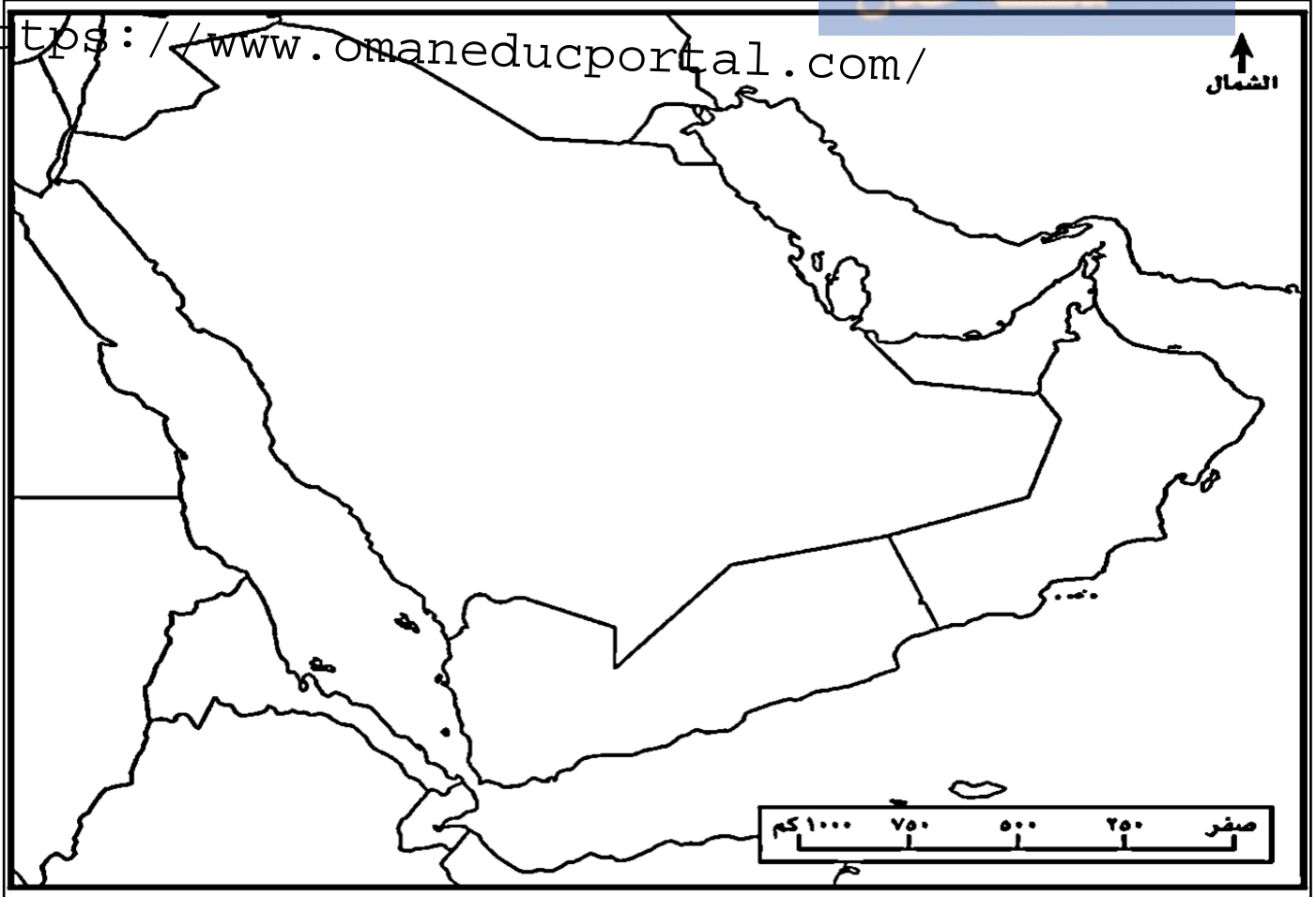
خريطة الوطن العربي



<https://www.omaneducportal.com/>



خريطة سلطنة عمان



خريطة شبه الجزيرة العربية

مدرسة :

الطالب المتميز :

الصف :

المادة :

مقدم للأستاذ :

التاريخ : / / م

عنوان الموضوع :

.....

.....

المقدمة :

المسئول:



<https://www.omaneducportal.com/>

الخاتمة :

التوثيق (المراجع) :

<https://www.omaneducportal.com/>

<https://www.omaneducportal.com/>

