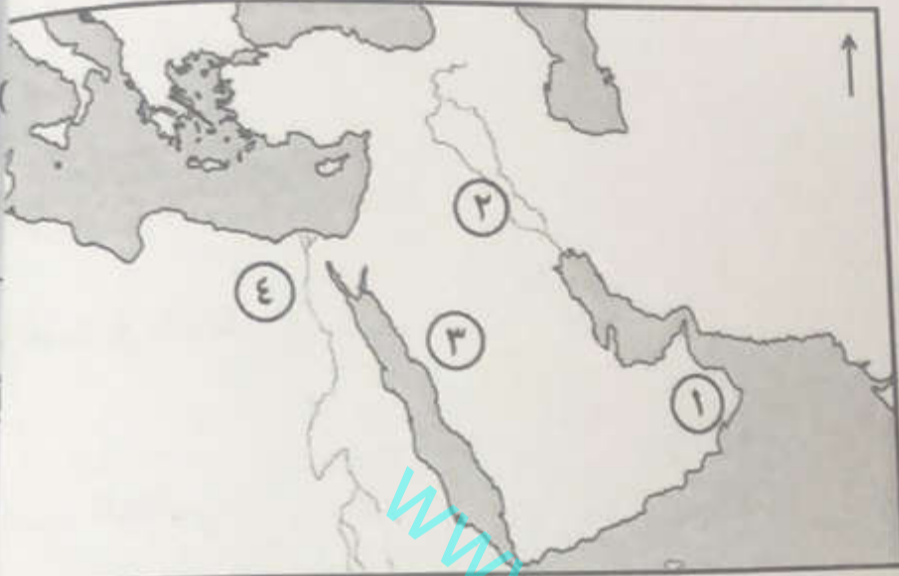


### أجب عن جميع الأسئلة الآتية

السؤال الأول : ضع دائرة حول رمز الإجابة الصحيحة لكل مفردة من المفردات الآتية:

١ - تكونت جبال الهملايا نتيجة اصطدام الصفيحة الهندية بالصفيحة :

- (أ) أفريقيا (ب) أوراسيا (ج) أستراليا (د) أمريكا



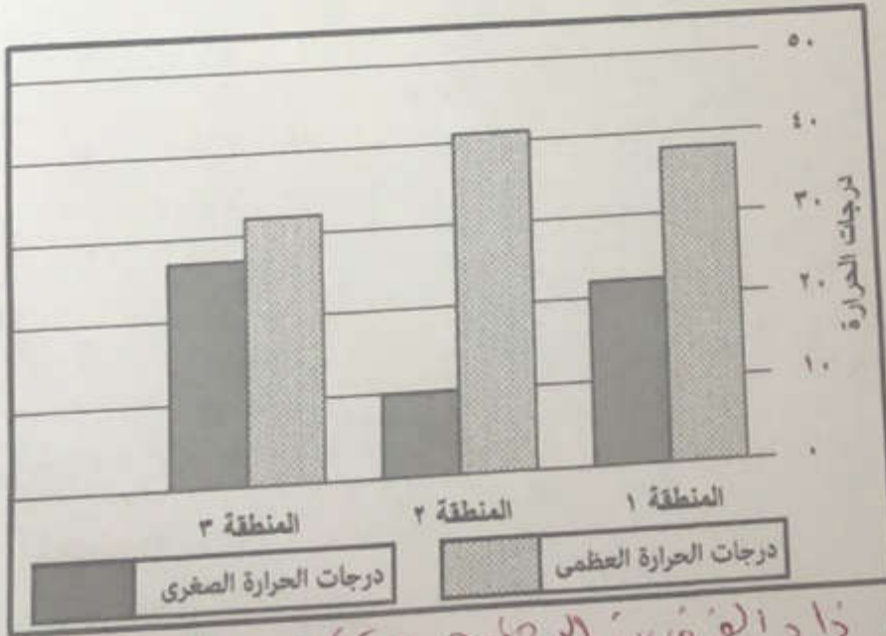
٢ - الرقم الذي يشير إلى المدينة التي قامت بها مدرسة الحديث :

- (أ) ١ (ب) ٢ (ج) ٣ (د) ٤

٣ - تحدث عمليات التذرية عندما تكون سرعة الرياح أكثر من : <sup>م/س</sup>

- (أ) ١٢ كم/ساعة (ب) ١٣ كم/ساعة (ج) ١٤ كم/ساعة (د) ١٥ كم/ساعة

٤ - الجدول الذي يمثل الترتيب الصحيح لنشاط عمليات التجوية الميكانيكية من الأعلى الى الأقل :



المنطقة	-ب-
٢	
١	
٣	

المنطقة	-أ-
١	
٣	
٢	

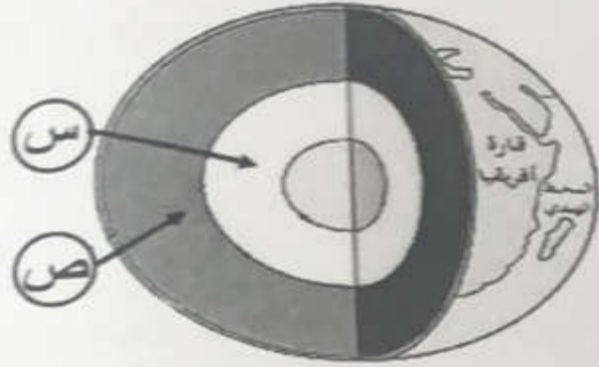
المنطقة	-د-
٢	
٣	
١	

المنطقة	-ج-
٣	
٢	
١	

كلما زاد الفرق بين الارتفاع حرارة كان اعلا

تابع : السؤال الأول:

٩ - الشكل الذي أمامك يوضح طبقات الأرض ، فإذا انتقلت من النقطة ( س ) إلى النقطة ( ص ) فإن درجة الحرارة:



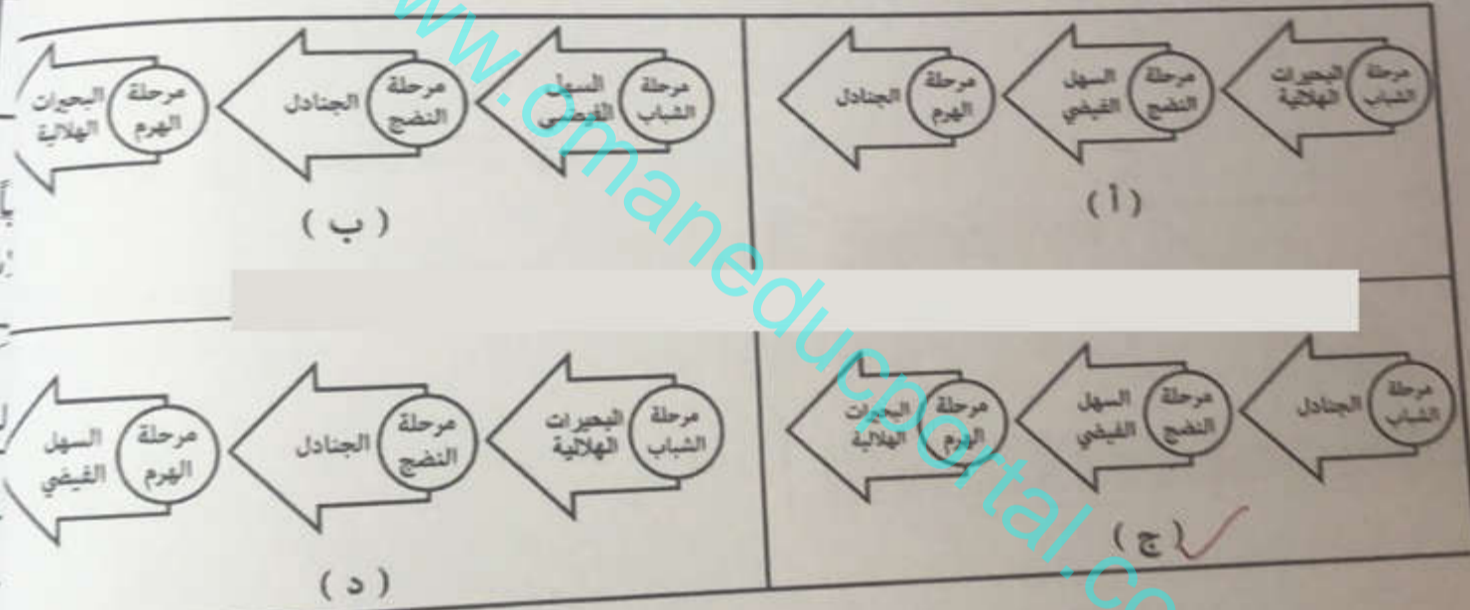
ب ( تزيد )

أ ( تقل )


د ( تنذبذب )

ج ( تثبت )

١٠ - المخطط الذي يوضح المراحل التي يمر بها النهر والأشكال الناتجة عنها :



١١ - الصورة التي تمثل أحد الأشكال الناتجة عن الإرساب البحري :



١٢ - أسس سعد بن أبي وقاص مدينة الكوفة في العام الهجري :

١٧ (د)

١٥ (ج)

١٣ (ب)

١١ (أ)

المادة: الدراسات الاجتماعية الصف: العاشر - الدور الأول - الفصل الدراسي الأول - العام الدراسي ٢٠٢٢/٢٠٢٣ م

## السؤال الثاني:

أولاً: اكتب مقابل كل عبارة في الجدول الآتي ( المفهوم / المصطلح ) الدال عليها :

العبارة	المفهوم / المصطلح
١ تجاوب واسعة في الأرض تكونت بسبب قيام الرياح بإزالة الرمال وتذريتها من السطح لفترات طويلة .	.....
٢ حافة صخرية شديدة الانحدار ناتجة عن النحت البحري للشواطئ الصخرية .	.....
٣ الظروف الصعبة التي تعرضت لها الدولة الإسلامية في نهاية خلافة عثمان بن عفان حول سياسته .	.....
٤ فتحة في قشرة الأرض تصل بين باطن الأرض شديد الحرارة وسطحها البارد وتخرج من خلالها الصهارة .	.....

ثانياً: اختر بوضع علامة ( ✓ ) درجة الدمار في كل دولة

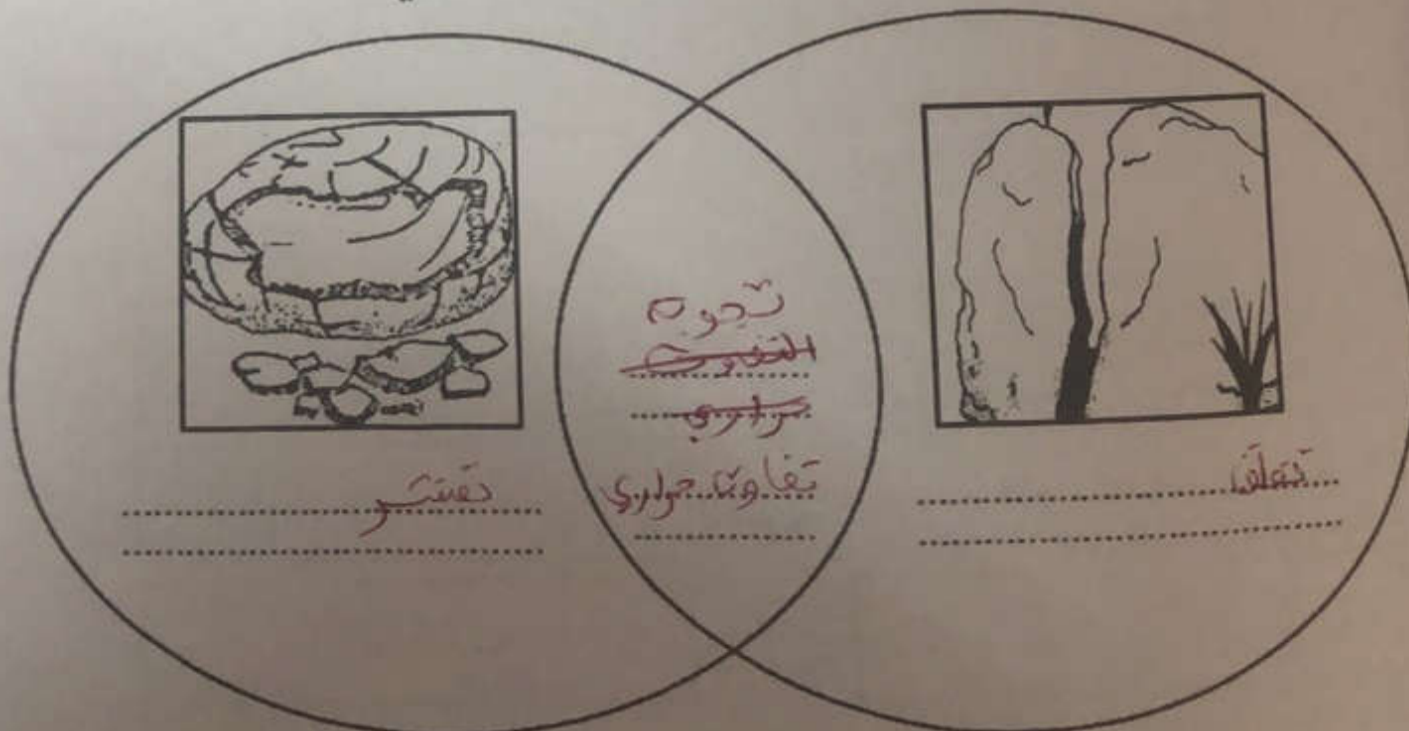
بالاستعانة بالشكل البياني الموضح أمامك :



الدولة	لا نشعر به	خفيف	قوي جداً	دمار شامل
إيران		✓		
اندونيسيا				
عمان	✓			
الجزائر				✓

ثالثاً: اكتب في الشكل التالي أوجه التشابه والاختلاف :

( تقشر ، تجوية ، تفلق ، تفاوت حراري )

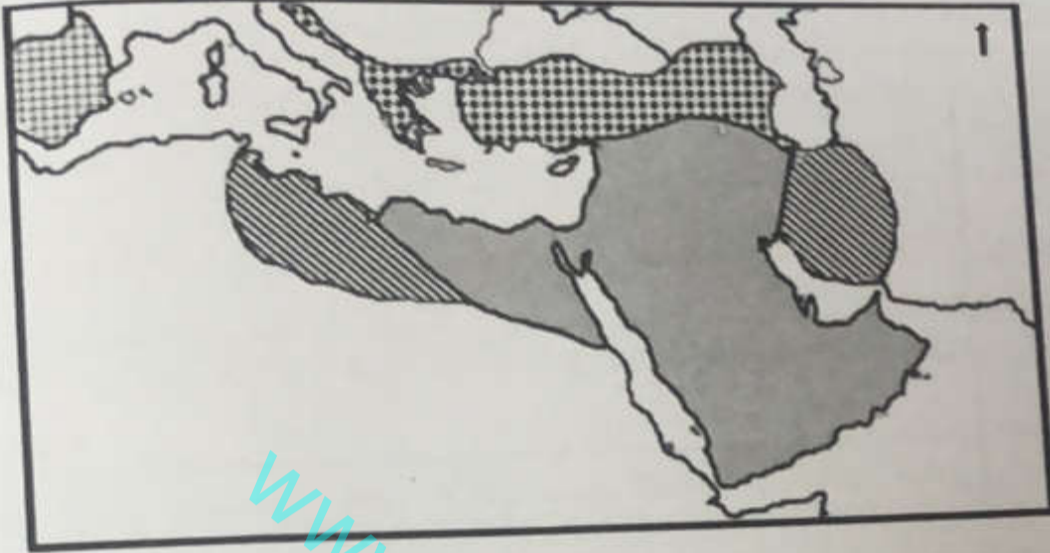


(5)



المادة: الدراسات الاجتماعية- الصف: العاشر- الدور الأول - الفصل الدراسي الأول - العام الدراسي ٢٠٢٢

السؤال الثالث :

أولاً: ادرس خريطة حدود الدولة الإسلامية زمن الخلفاء الراشدين التي أمامك ، ثم أجب عن الأسئلة الآتية



- أكمل الجدول الآتي :

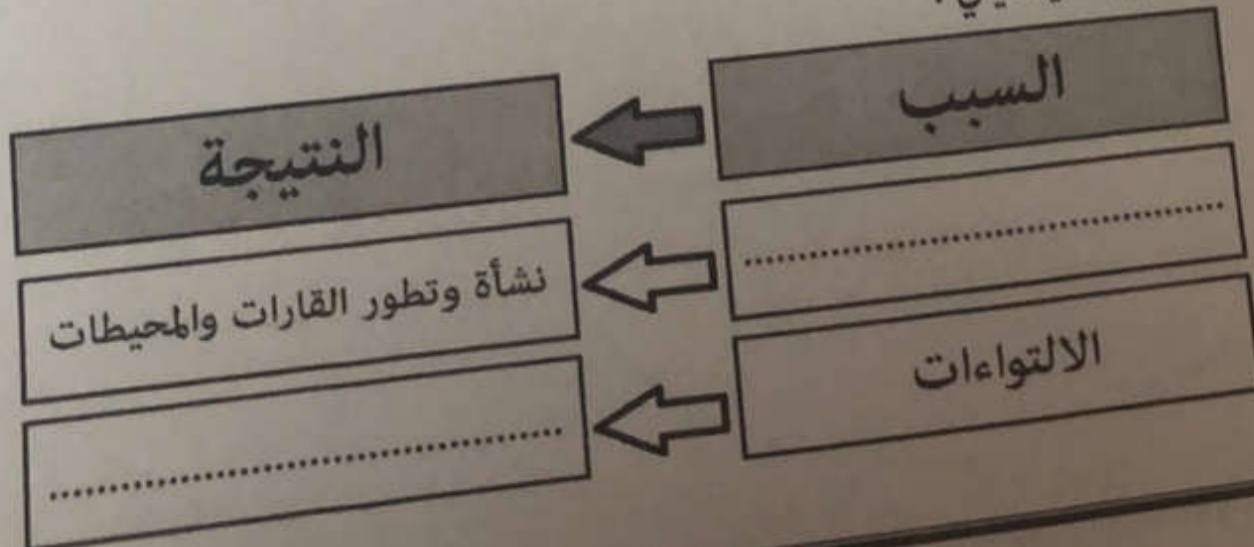
وجه المقارنة		
اسم الخليفة	.....	.....
أهم الإنجازات	.....	.....

ثانياً: أجب عن الأسئلة الآتية:

١- اكمل المخطط الآتي:



٢- اكتب السبب والنتيجة فيما يأتي:



المادة: الدراسات الاجتماعية - الصف: العاشر - الدور الأول - الفصل الدراسي الأول - العام الدراسي ٢٠٢٢/٢٠٢٣ م (٦)

تابع: السؤال الثالث:

ثالثاً:

١ - صنف الأشكال الآتية حسب نوع العامل المكون لها وفق الجدول الآتي:

(اللوس، الخوانق، صحاري الحمادة، الدلتا، الأقواس، البلاج)


العامل المكون	الأشكال
النحت	.....
الإرساب	.....

٢ - احسب المدى الحراري إذا علمت أن درجة الحرارة العظمى (٤٥) و درجة الحرارة الصغرى (٦).

.....  
.....  
.....

السؤال الرابع:

أولاً: ادرس الشكل أمامك، ثم أجب عن الأسئلة الآتية:



١ - سم المنطقتين المشار إليهما بالرمز (ص) و (ل).

.....  
.....

٢ - حدد اسم الظاهرة التي تنشأ في المنطقة المشار إليها بالرمز (س).

.....  
.....

٣ - فسر: حدوث الظاهرة في المنطقة المشار إليها بالرمز (س).

.....  
.....

تابع : السؤال الرابع :

ثانياً: أجب عن الأسئلة الآتية :

١ - " بخروج العرب من شبه الجزيرة العربية أثناء حركة الفتوحات الإسلامية الكبرى ، أخذت الحضارة الإسلامية تدخل مرحلة جديدة تتصف بالنمو التدريجي الذي أوصلها إلى مرحلة الازدهار " .  
في ضوء العبارة السابقة أجب عما يلي :

أ- وضح دور الإسلام في التفاعل مع الحضارات الأخرى بعد الفتوحات الإسلامية الكبرى .

ب - فسر : يعد نزول القرآن الكريم نقطة البداية للفكر الإسلامي .

٢- اذكر اثنين من المقومات التي ساعدت على نمو الفكر الإسلامي وظهور المدارس الفكرية .

ثالثاً: ادرس الخريطة التي أمامك ، ثم أجب عن الأسئلة الآتية :



- ١ - وجود دراسات أثبتت جريان أنهار جليدية في القارة المشار إليها بالرمز (.....) .
- ٢ - الرقم الذي يشير إلى الحضارة التي اعتقد علماءها أن الأرض محمولة فوق أربعة فيلة (.....) .
- ٣ - حدد على الخريطة باستخدام الرمز ( ▲ ) الدولة التي تتأثر سلطنة عُمان بالهزات الأرضية التي تقع فيها.
- ٤ - عدد الصفائح التكتونية التي تتكون منها القشرة الأرضية حسب نظرية حركة الصفائح .

(٨)

المادة: الدراسات الاجتماعية- الصف: العاشر- الدور الأول - الفصل الدراسي الأول -العام الدراسي ٢٠٢٢/٢٠٢٣ م

السؤال الخامس :

أولاً: ادرس الصور التالية ، ثم اكتب أسفل كل صورة اسم الشكل التضاريسي الذي تمثله :



٤ - .....



٣ - .....



٢ - .....



١ - .....

ثانياً: أجب عن الأسئلة الآتية :

١- ما المقصود ببلاد المغرب ؟

.....  
.....

٢- ما العلاقة بين وحدة المجتمع والتسامح من وجهة نظرك ؟

.....  
.....

٣- رتب الأحداث التالية من الأقدم إلى الأحدث بكتابة الأرقام ( ١ ، ٢ ، ٣ ، ٤ ) :

( ) نقل عاصمة الدولة الاسلامية من المدينة المنورة إلى الكوفة .

( ) تنازل الحسن بن علي عن خلافة الدولة الاسلامية .

( ) إعادة الوحدة إلى الدولة الاسلامية بعد وفاة الرسول ( ﷺ ) .

( ) تواجه الجيوش الإسلامية في معركة صفين .

لثأ: عدد اثنين :

- مدن عُمانية كانت مراكز فكرية احتضنت الكثير من العلماء .

.....  
.....

- فوائد الانكسارات للإنسان .

.....  
.....

انتهت الأسئلة مع الدعاء للجميع بالتوفيق والنجاح.