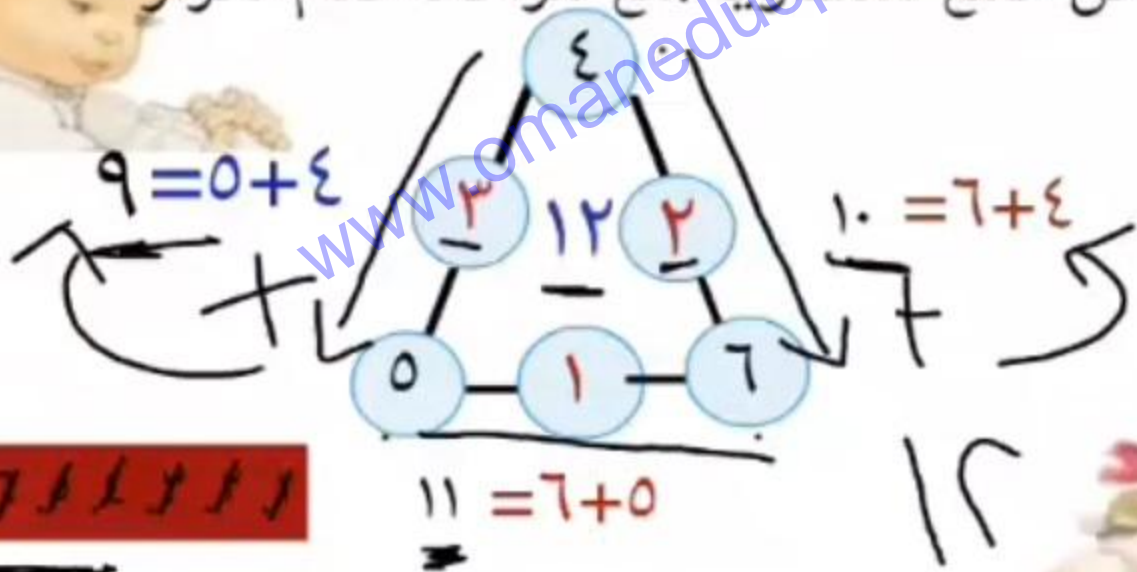


أم ساند

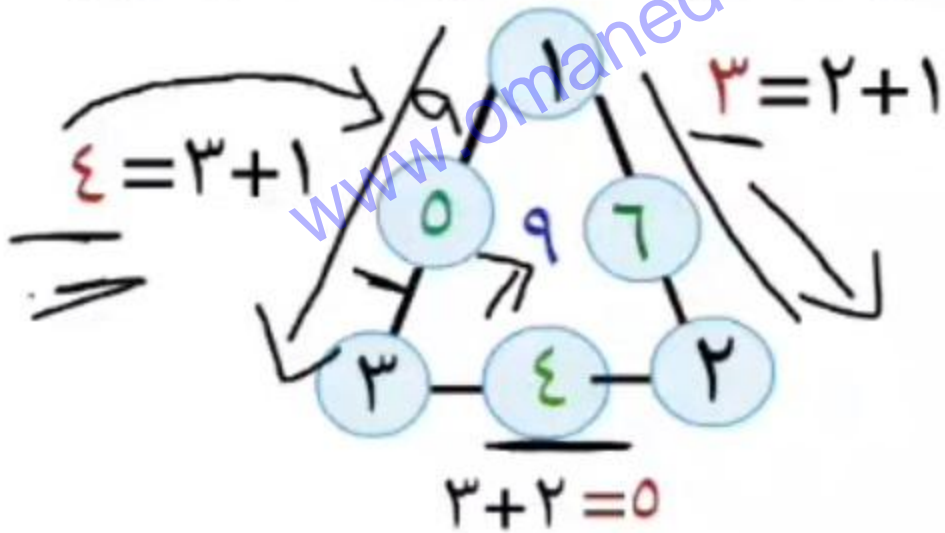
ضع الاعداد من 1 الى 7 في دوائر المثلث بحيث يكون نتيجة جمع كل ضلع متساويا؛ مع مراعاة عدم تكرار الاعداد.



7 1 1 1 1 1 1



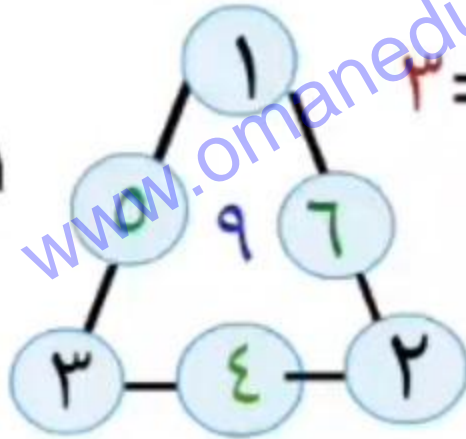
ام م  
 ضع الاعداد من ١ الى ٦ في دوائر المثلث بحيث يكون  
 نتيجة جمع كل ضلع متساويا ؛مع مراعاة عدم تكرار  
 الاعداد.



~~٦~~ . ~~٥~~ . ~~٤~~ . ~~٣~~ . ~~٢~~ . ~~١~~

ام ٥  
ضع الاعداد من ١ الى ٦ في دوائر المثلث بحيث يكون  
نتيجة جمع كل ضلع متساويا؛ مع مراعاة عدم تكرار  
الاعداد.

~~١~~ . ~~٢~~ . ~~٣~~ . ~~٤~~ . ~~٥~~ . ~~٦~~



$$3 = 2 + 1$$

$$4 = 3 + 1$$

$$3 + 2 = 5$$